

1. I. BİT = 0 ve 1 rakamları
II. Byte = 0 1 2 3 4 5 6 7
III. Kilobyte = 1024 Bit

Yukarıdaki açıklamalardan hangileri doğrudur?

- A) I - II
B) I - II - III
C) Yalnızca I
D) Yalnızca III

2. Aşağıdakilerden hangisi bilgisayardaki giriş çıkış birimlerinin görevlerinden biridir?

- A) Bellek ile işlemcilerin bağlantısını sağlamak
B) Verilerin ve sonuçların saklanmasını sağlamak
C) İşlemciden elde edilen sonuçları ana belleğe aktarmak
D) Kullanıcı ile bilgisayar arasındaki bağlantıyı sağlamak

3. Aşağıdaki yazıcı özelliklerinden hangisi yanlıştır?

- A) Laser yazıcıların yazma hızı cpm (character per minute – dakikada yazılan karakter sayısı) ile gösterilir
B) Fatura dökümü gibi aynı anda birden fazla kopyalı çıktı almak için dot matrix (nokta vuruşlu) printer kullanılır
C) Ink Jet (mürekkep püskürtmeli) ve laser yazıcılarda laser kalitesini dpi (dot per inch – 1 inch başına düşen nokta sayısı) değeri gösterir
D) Yerel ağ üzerindeki kullanıcılar, paylaşım açılmış tüm yazıcılara döküm gönderebilir

4. Aşağıdaki şıklardan hangisi doğrudur?

- A) Kısa yolu oluşmayan program çalışmaz
B) Kısa yolu silinen bir programın kaynak programı çalışmaz
C) Kısa yolu oluşan bir programın kısa yolu silinirse kaynak program çalışır
D) Kısa yolu oluşan bir programın kısa yolu silinirse kaynak programda silinir

D) Kısa yolu oluşan bir programın kısa yolu silinirse kaynak programda silinir

5. Aşağıdakilerden hangisi uygulama(PAKET) yazılımını ifade eder?

- A) Yazılan kaynak programı makine diline çeviren programdır
B) Belirli bir amaç için üretilmiş sistem yazılımı altındaki programdır
C) Bilgisayar ile kullanıcı arasındaki iletişimi sağlar
D) Bilgilerin kalıcı olarak depo edilmesini sağlar

6. Temel Giriş – Çıkış, hesaplama ve kontrol işlemlerini yürüten ünedir. Barındırdığı emirler ile diğer birimleri çalıştırır ve denetler. Boşluğa aşağıdakilerden hangisi gelmelidir?

- A) HDD
B) CPU
C) Ram
D) Kasa

7. Aşağıdakilerden hangisi giriş birimlerinden biridir?

- A) Fare
B) Yazıcı
C) Ekran
D) İşlemci





8. Aşağıdakilerden hangisi laser yazıcı ile ilgili özellik değildir?

- A) Çıktı kalitesi yüksektir
B) Yüksek hızda çalışır
C) Satır yazıcısı olarak da adlandırılır
D) Sayfa başına maliyeti en ucuz yazıcıdır

9. Aşağıdakilerden hangisi kapasite birimi değildir?

- A) Bit

- B) Byte
- C) Terabyte
- D) Bios

10. I.  (Wireless)
- II.  (Wireless)
- III.  (BlueTooth)
- IV.  (USB)

Yukarıdaki simge ve açıklamalardan hangileri doğrudur?

- A) I - II - III - IV
- B) II - III - IV
- C) I - II - III
- D) I - III - IV

11. Aşağıdakilerden hangisi klavyedeki yön tuşlarından birisi değildir?

- A) Home
- B) Insert
- C) Page Down
- D) End

12. I. EXE:Adıyla çalıştırılabilir dosyaların uzantısı
- II. DOCX : Not defteri dosyalarının uzantısı
- III. XLS : Excel dosyalarının uzantısı
- IV. PPT : Power Point dosyalarının uzantısı
- V. PDF : WordPad dosyalarının uzantısı

Yukarıdaki açıklamalardan hangileri doğrudur?

- A) I - III
- B) II - III - IV
- C) II -IV -V
- D) I - III - IV

13. Bilgisayarın kapatma (power) düğmesini kullanmadan yeniden açılmasını sağlayan makinenin üzerindeki tuş hangisidir?

- A) Makinenin üzerindeki RESET tuşu
- B) Klavyenin üzerindeki ENTER tuşu
- C) Makinenin üzerindeki TURBO tuşu
- D) ESC tuşu


14. Aşağıdakilerden hangisi işletim sistemi yazılımını ifade eder?

- A) Yazılan kaynak programı makine diline çeviren programdır
- B) Belirli bir amaç için üretilmiş sistem yazılımı altında çalışan programdır
- C) Bilgisayar ile kullanıcı arasındaki iletişimi sağlar
- D) Bilgilerin kalıcı olarak depo edilmesini sağlar

15. Aşağıdakilerden hangisi kağıt üzerindeki bilgiyi bilgisayara aktaran donanım birimidir?

- A) Printer
- B) Tablet
- C) TouchPad
- D) Scanner

WINDOWS İŞLETİM SİSTEMİ VE BELLEK HİZMET PROGRAMI

16.  Yandaki simgesi görülen ve Donatılar altında bulunan program, aşağıdakilerden hangisidir?

- A) Cut – Kes
- B) Paint – Çizim programı
- C) Cancel Connection – Ağ Bağlantısını Kes
- D) Snipping Tool – Ekran Alıntısı Aracı

17. I. Ctrl + Tab: Sekmeler arası geçiş yap
II. Alt + Tab: Açık programlar arası geçiş yap
III. Ctrl + F4: Aktif pencereyi kapat
IV. Alt + F4: Aktif programı kapat

Yukarıdaki açıklamalardan hangisi doğrudur?

- A) I – II – IV
- B) II – IV
- C) II – III – IV
- D) I – II – III – IV


18.  Yandaki simgenin işlevi aşağıdakilerden hangisidir?

- A) Yardım penceresinin açılmasını sağlar
- B) Kullanılan editöre soru işaretinin basılmasını sağlar
- C) Masaüstüne soru işareti resmini koyar
- D) Programlarda hata oluştuğunda ekranın ortasında görüntülenir

19. Bellekte çalışan uygulamalar, CPU kullanımı, Bellek kullanımı; Ağ iletişimi, Kullanıcılar gibi

bilgilere doğrudan ulaşmak için aşağıdaki programlardan hangisi kullanılır?

- A) Görev Yöneticisi
- B) Program Ekle/Kaldır
- C) Bilgisayarım
- D) Sistem

20.  +E (Başlat + E) tuş bileşimi aşağıdakilerden hangisini yapar?

- A) Masaüstüne geçmeyi sağlar
- B) Başlat menüsünü açar ve E harfi ile başlayan programa konumlanır
- C) Windows gezgini programını açmayı sağlar
- D) Sadece başlat menüsünü açmayı sağlar

21. Windows gezgininde (Windows explorer) bir klasörü (folder) klavyeden Ctrl tuşuyla basılı tutup farenin sol tuşuyla sürükleyip başka bir sürücünün üzerine bırakırsak sonuç ne olur?

- A) Taşıma, Kopyalama, İptal seçeneklerinin olduğu menü görüntülenir
- B) Fare ile sürüklenen klasör, hedef klasöre taşınır
- C) Fare ile sürüklenen klasör, hedef klasöre kopyalanır
- D) Fare ile sürüklenen klasörün kısa yolu, hedef klasörde oluşur

22. Not Defteri programında aşağıdakilerden hangisi yapılamaz?

- A) Yazı rengi değiştirilebilir
B) Yazı biçimi (fontu) değiştirilebilir
C) Yazı boyutu büyütülüp küçültülebilir
D) Ekran sığmayan satırların bir alt satırda görüntülenmesi sağlanabilir



23. Yandaki kısa yol simgesi hangi programa aittir?

- A) Paint
B) Hesap makinesi
C) WordPad
D) Not defteri

24. Sadece Windows kurulu bir bilgisayarda, renkli yazı yazmak, yazı içine resim koymak, madde imleri kullanmak, gerektiren bir doküman hazırlanmak isteniyor. Bunun için aşağıdaki programlardan hangisi kullanılmalıdır?

- A) Not defteri
B) Paint
C) WordArt
D) WordPad

25. Aşağıdaki programlardan hangisi, standart Windows kurulumu ile Donatılar bölümüne yerleşen programlardan biri değildir?

- A) Eşitleme merkezi
B) Program ekle/kaldır
C) Uzak masaüstü bağlantısı
D) Büyüteç

26. Windows'ta Fare – Klavye – Sistem – Program Ekle/Kaldır vb. uygulamaların yer aldığı pencere aşağıdakilerden hangisidir?

- A) Windows Gezgini
B) Bilgisayarım simgesi
C) Geri dönüşüm Kutusu
D) Denetim Masası

27. Aşağıdakilerden hangisi, Denetim Masası'ndaki Fare programı ile yapılamaz?

- A) Kablosuz fare tanımlaması yapılır
B) Düğme ayarları değiştirilebilir
C) Fare işaretçisinin görünüm temaları değiştirilebilir
D) Ctrl tuşuna basıldığında fare işaretçisinin bulunduğu yerde dalga görüntüsü oluşturulabilir

28. Kısa yollara ilişkin aşağıdaki açıklamalardan hangisi yanlıştır?

- A) Kısa yollar sadece masaüstünde oluşturulur
B) Kısa yol silindiğinde orijinal dosya silinmez
C) Klasörler içinde kısa yollar oluşturulabilir
D) Kısa yol kopyalandığında orijinal dosya kopyalanmış olmaz

29. I :Kes
II :Kopyala
III :Yapıştır

Yukarıdaki işlemlerin kısa yolları, doğru sırasıyla hangi seçenekte verilmiştir?

- A) Ctrl+C - Ctrl+X - Ctrl+V
B) Ctrl+V - Ctrl+X - Ctrl+C
C) Ctrl+X - Ctrl+V - Ctrl+C
D) Ctrl+X - Ctrl +C- Ctrl+V

30. Aktif programın pencere bandına farenin sol tuşu ile çift tıklamak, aşağıdaki işlemlerden hangisini yapar?

- A) Aşağı geri getir – ekranı kapla düğmesi gibi çalışır
B) Programı simge durumuna getir düğmesi gibi çalışır
C) Programı kapat düğmesi gibi çalışır
D) Pencerenin yön tuşlarıyla hareket ettirilmesini sağlar

31. Windows oyunlarının başlat menüsünde görüntülenmemesi isteniyor ise, aşağıdakilerden hangisi kullanılmalıdır?

- A) Sistem
B) Program Ekle/Kaldır

- C) Güvenlik Duvarı
- D) Görünüm Ayarları

32. Bir dosya üzerinde aşağıdakilerden hangisi yapılamaz?

- A) Dosya adında _(alt tire) kullanılabilir
- B) Dosya adında ? (soru işareti) kullanılabilir
- C) Dosya kalıcı olarak (geri dönüşüm kutusuna atılmadan) silinebilir
- D) Dosya öznitelikleri (sadece okunur gizli) değiştirilebilir

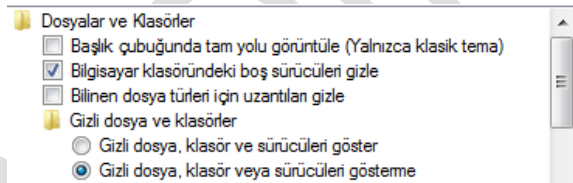
33. Adı bilinmeyen Word dosyalarını aramak için arama bölümüne aşağıdakilerden hangisi yazılmalıdır?

- A) *.word
- B) *.doc
- C) ?.doc*
- D) Word*.doc*

34. Aşağıdakilerden hangisi Windows kurulumundan gelen bir program değildir?

- A) Windows Gezgini
- B) Wordpad
- C) Paint
- D) Word

35. Gelişmiş Ayarlar



Yukarıdaki şekilde görülen ayarlara ulaşmak için aşağıdakilerden hangisi kullanılır?

- A) Klasör seçenekleri
- B) Dosya seçenekleri
- C) Görünüm seçenekleri
- D) Güvenlik ayarları

36. Bilgisayarın korsan saldırılardan ve zararlı yazılımlardan korunması için Denetim Masasındaki hangi program kullanılmalıdır?

- A) Windows Güvenlik Duvarı
- B) Windows Update
- C) Bölge ve Dil Seçenekleri
- D) Program Ekle/Kaldır

37. Aşağıdakilerden hangisi yanlıştır?


- A) Paint ile yapılan bir resim WordPad dosyasına yapıştırılabilir
- B) Paint ile yapılan bir resim JPEG formatında saklanabilir
- C) Paint ile yapılan resim Not Defteri dosyasına yapıştırılabilir
- D) WordPad içinden Paint çağrılabilir ve yapılan çizim anında WordPad dosyasında görüntülenir

38. Bir dosyayı geri dönüşüm kutusuna göndermeden tamamen silmek için kullanılan kısa yol tuşu hangisidir?

- A) Shift+Delete
- B) Ctrl+Delete
- C) Delete
- D) Alt+Delete

39. Aşağıdakilerden hangisi doğrudur?

- A) Windows kuruluşu ile yüklenen tarayıcı Chrome adlı tarayıcıdır
- B) Windows kuruluşu ile yüklenen tarayıcı FireFox adlı tarayıcıdır
- C) Windows kuruluşu ile yüklenen tarayıcı Windows Explorer adlı tarayıcıdır
- D) Windows kuruluşu ile yüklenen tarayıcı Internet Explorer adlı tarayıcıdır

40.  Yandaki araçlar WordPad kullanılan araçlardır. Bu araçların adları, doğru sırada aşağıdakilerden hangisinde verilmiştir?

- A) Resim – Paint çizimi – Tablo çizimi – Nesne ekle
- B) Çerçeve – Paint çizimi – Tablo çizimi – Nesne ekle
- C) Resim – Paint – Tarih saat ekle – Çerçeve
- D) Resim – Paint – Tarih saat ekle – Nesne ekle

41. Aşağıdakilerden hangisi yanlıştır?

- A) Dosya adı içinde, klavyede bulunan tüm karakterler kullanılabilir
- B) İç içe klasörler oluşturulabilir
- C) Sürücüler arasında dosya ve klasör aktarımları, kopyalamaları yapılabilir
- D) Ağ kullanıcılarının ortak kullanacakları klasörler, paylaşımına açılabilir

42. Windows'ta bir nesne seçili iken F2 tuşuna basılırsa, aşağıdakilerden hangisi olur?

- A) Nesnenin kopyası aynı klasöre çıkarılır
- B) Nesnenin özellikleri penceresi açılır
- C) Nesne, adı yeniden adlandırılmak üzere hazırlanır
- D) Nesnenin kısa yolu oluşturularak masaüstüne bir kopyası çıkartılır

43. Aşağıdakilerin hangisine dosya kopyalanıp yapıştırılamaz?

- A) C sürücüsü
- B) D sürücüsü
- C) Belgelerim
- D) Bilgisayarım

44. Klavyeden Ctrl tuşu basılı tutularak farenin tekerleği ileri geri hareket ettirildiğinde hangisi oluşur?

- A) Ekran görüntüsü yakınlaştırılır ya da uzaklaştırılır
- B) Açık programlar arasında geçiş yapılması sağlanır
- C) Ekran görüntüsü yukarı ve aşağı doğru hareket ettirilir
- D) Aktif program pencereleri arasında geçiş yapılır

45. Media Player programı, aşağıdakilerden hangisini yapar?

- A) Günlük haber sitelerine bağlanır
- B) Müzik ve film dosyalarını oynatır
- C) Ses kayıt işlemlerini yapmayı sağlar
- D) Media oyun programını başlatır

46. I. Disk birleştirme işlemi
II. RAM (Ana bellek) boyutu
III. Ekran kartı özellikleri

Yukarıdakilerden hangisi bilgisayarın çalışma ve görüntüleme hızını etkiler?

- A) I – II
- B) II– III
- C) I – III
- D) I – II – III

47. Seçili dosyaları flash belleğe kopyalamak için aşağıdakilerden hangisi kullanılmaz?

- A) Ctrl+X ve Ctrl+V
- B) Ctrl+C ve Ctrl+V
- C) Farenin sağ tuşu gönder
- D) Farenin sol tuşu sürükleyip bırak

48. Adı A ile başlayan bütün Excel dosyalarını aramak için, arama alanına aşağıdakilerden hangisi yazılmalıdır?

- A) *.xls veya *.xlsx
- B) A.xls veya A.xlsx
- C) xls veya xlsx
- D) A*.xls veya A*.xlsx

49. Masaüstü aktif durumda iken klavyeden Alt+F4 tuşuna basılırsa, aşağıdakilerden hangisi olur?

- A) Bilgisayar kapatılır
- B) Masaüstü kapatılır
- C) Bilgisayarın kapatılması penceresi görüntülenir
- D) Açık olan tüm programlar kapanır daha sonra bilgisayar kapanır

50. Windows yardım ekranını açmak için hangi fonksiyon tuşu kullanılır?

- A) F1
- B) F2
- C) F3
- D) F4

51. I. Sol, Sağ, Üst, Alt ok tuşları
II. Home ve End tuşları
III. PageUp ve PageDown tuşları
IV. Insert tuşu

Yukarıdaki klavye tuşlarından hangileri, Yön tuşu olarak adlandırılır?

- A) I – II – III
- B) I – II – IV
- C) I – III – IV
- D) I – II – III – IV

52. Bir editörde, imleci kelime kelime sağa ilerletmeyi sağlayan tuş kombinasyonu, aşağıdakilerden hangisidir?

- A) Alt + Sağ ok
- B) Sadece + Sağ ok
- C) Ctrl + Sağ ok
- D) Shift + Sağ ok

53.  Yandaki resimde görülen klavye tuşunun görevi aşağıdakilerden hangisidir?

- A) Ekrandaki her şeyin yazıcıya gönderilmesini sağlar
- B) Farenin sağ tuşunun görevini yapar
- C) Başlat menüsünü açar
- D) Aktif program menülerinin görüntülenmesini sağlar

54. Birden fazla dosyayı seçmek için aşağıdakilerden hangisi kullanılmaz?

- A) Ctrl+A tuşlarına basılır
- B) Shift tuşu basılı tutularak yön tuşları ile seçme yapılır

- C) Ctrl tuşu basılı tutularak farenin sol tuşu ile dosyalar tek tek seçilir
- D) Seçilecek dosyalar farenin sol tuşu ile tek tek tıklanır

55. I. Windows : İşletim sistemi
II. Word : Kelime işlemci programı
III. Excel : Elektronik hesap tablo programı
IV. Power Point : Sunucu programı
V. Outlook Express : Mail alma ve gönderme programı

Yukardaki eşleşmelerden hangisi yanlıştır?

- A) III
- B) IV
- C) V
- D) Hepsi doğru eşleşmedir

56. Aşağıdakilerden hangisi doğrudur?

- A) Dosya silinse bile, önceden oluşturulan kısa yolu kullanılarak geri kurtarılabilir
- B) Kısa yol silindiğinde, kısa yolun gösterdiği dosya silinmez
- C) Dosya silindiğinde, dosyayı gösteren kısa yollarda otomatik olarak silinir
- D) Kısa yolun adı değiştirildiğinde, kısa yolun gösterdiği dosyanın da adı değiştirilmelidir



57. Yukarıdaki yer alan yazıcı simgeleri için aşağıdakilerden hangisi söylenebilir?

- A) I. Yazıcı paylaşıma açılmış II. Yazıcı paylaşıma açılmamış
- B) I. Yazıcı paylaşıma açılmamış II. Yazıcı paylaşıma açılmış
- C) I. Yazıcı varsayılan olarak atanmış II. Yazıcı varsayılan olarak atanmamış
- D) I. Yazıcı çevrimdışı olarak ayarlanmış II. Yazıcı çevrimdışı olarak ayarlanmamış

58. I. Başlat + R ile çalıştır açılıp notepad yazılarak Not defteri programı çalıştırılabilir
II. Başlat – Programlar – Donatılar bölümünden Not defteri seçilip tıklanır
III. Boş bir alanda fare sağ tuşu – Yeni menüsünden Metin belgesi seçilip tıklanır
Yukardakilerin hangisi ile bir Not defteri çalıştırılmaz?

- A) I
B) II
C) III
D) Hepsi ile çalıştırılabilir



59. Yanda gördüğünüz simge, aşağıdakilerden hangisine aittir?

- A) Sıkıştırılmış klasör
B) İçinde belgeler bulunan klasör
C) Bilgisayara kayıtlı kitap listesi
D) Bilgisayardaki tüm dokümanlar klasörü

60. Disk Birleştiricisi aşağıdakilerin hangisini yapar?

- A) Birden fazla diski tek disk gibi kullanmayı, böylece bilgilere daha hızlı ulaşmayı sağlar
B) Birden fazla parçaya bölünmüş diskleri (C: D: gibi), tek disk haline getirmeyi sağlar
C) Disklerin daha verimli çalışabilmesi için parçalanmış verileri yeniden düzenler
D) Disk, CD, Flash Bellek gibi farklı yan bellek alanlarını tek disk gibi birleştirmeyi sağlar

61. Windows Gezgini ile aşağıdakilerden hangisi yapılamaz?

- A) Bir diskin adı değiştirilebilir
B) Bir disk, C: ve D: gibi iki parçaya ayrılabilir
C) Diskler üzerinde birleştirme, hata ayıklama işlemleri yapılabilir
D) Bilgisayarda gereksiz yer kaplayan dosyalar silinebilir



62. İnternet Explorer penceresinde yukarıdaki adres çubuğunun görevi nedir?

- A) Bilgisayarda bulunan yan bellek ortamlarını görüntülemeyi sağlar
B) Web sayfasının adresini yazmamızı sağlar
C) Açmak istediğimiz programın adını yazmamızı sağlar
D) Hiçbir işe yaramaz

63. Aşağıdakilerden hangisi ortaöğretim kurumu olduğunu gösterir?

- A) www.xxx.gov.tr
B) www.xxx.k12.tr
C) www.xxx.mil.tr
D) www.xxx.edu.tr

64. Aşağıdakilerden hangisi dosya ve klasörlere ait özniteliklerden (attributes) değildir?

- A) Sadece okunur (Read only)
B) Gizli (Hidden)
C) Sistem (System)
D) Özel (Private)

65. İnternet sayfalarında sürekli bulunan www kısaltmasının açık adı aşağıdakilerden hangisidir?

- A) World Wireless Web
B) Wonderful World Web
C) World Wide Web
D) Web World Win

WORD

66. Yandaki başlık formatları, aşağıdakilerden hangisinde yer almaktadır?

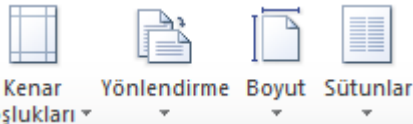
- A) Yazı tipleri
- B) Üst bilgi ve Alt bilgi
- C) Stiller
- D) Başvurular

67. Belgedeki belli bir yere sütun sonu sayfa sonu veya bölüm sonu eklemeyi sağlayan komut aşağıdakilerden hangisidir?

- A) Ekle – Alan
- B) Ekle – Sayfalar
- C) Ekle – Sayfa numaraları
- D) Sayfa düzeni – Kesmeler

68. Belgenin ilk beş sayfasına Romen rakamları (i, ii, iii, iv, v) şeklinde, geride kalan sayfalarına ise 1,2,3,... şeklinde numara verilmek isteniyor. Bu durumda yapılması gereken işlem, aşağıdakilerden hangisinde doğru olarak verilmiştir?

- A) 5. Sayfanın sonunda sayfa kesmesi kullanmak gerekir
- B) 5. Sayfanın sonunda bölüm kesmesi kullanmak gerekir
- C) İlk 5 sayfayı ayrı bir dosya olarak kaydetmek gerekir
- D) İlk 5 sayfanın alt bilgi alanındaki numaraları elle değiştirmek gerekir



69. Yandaki düğmelere ulaşmak için hangi menü (ribon, cetvel) kullanılmalıdır?

- A) Gözden geçir
- B) Görünüm
- C) Postalar
- D) Sayfa düzeni

70. Microsoft Word menü sekmelerini kaldırıp tama ekran okuma moduna geçiş yaparken belgemizin ekran kaplamasını hangi yöntem ile yapabiliriz?

- A) Görünüm – Belge görünümleri – Sayfa düzeni
- B) Görünüm – Belge görünümleri – Ana hat
- C) Görünüm – Belge görünümleri – Web düzeni
- D) Görünüm – Belge görünümleri – Tam ekran okuma



71. Yandaki düğmenin işlevi nedir?





- A) Resim çizmek
- B) Resmi büyültmek ve küçültmek
- C) Resmi kırpma
- D) Resim eklemek

72. I. Ctrl+Home: Dosyanın başına git
II. Ctrl+End: Dosyanın sonuna git
III. Shift+Home: İmlecin bulunduğu yerden satırın başına blokla
IV. Ctrl+ÜstOk: İmleci bir üst paragrafa çıkart

Yukardaki tanımlanan hangileri yanlıştır?

- A) I – V
- B) II - IV
- C) I - III
- D) Hepsi Doğru

73. Aşağıdaki karşılaştırmalardan hangisi doğrudur?

- A)  - Denklem
- B)  - Köprü
- C)  - Metin rengi
- D)  - Wordart



74. **Resim** Yandaki düğme hangi amaç için kullanılır?
Yazısı Ekle

- A) Belgeye eklenen resimlere açıklama eklemek
- B) Resim yazısı fontu ile yazı yazmak
- C) Yazı Tipleri bölümüne Resim Yazısı tipini eklemek
- D) Otomatik Şekiller Tablosu oluşturmak amacıyla resimlere açıklama eklemek



75. **Böl** Yandaki, düğme aşağıdakilerden hangisini yapar?

- A) Çalışma ekranını istenilen yerden ikiye böler
- B) Tabloyu istenilen yerden bölmeyi sağlar
- C) Seçili şekli istenilen yerden bölmeyi sağlar
- D) Belgeyi istenilen yerden ikiye bölerek ayrı ayrı kaydedilmesini sağlar



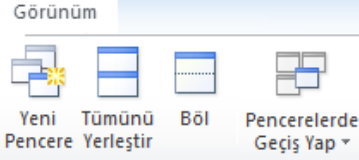
76. Yandaki simge için aşağıdakilerden hangisi söylenebilir?

- A) Belgeyi sütunlara ayırır
- B) Belgeye tablo ekler
- C) Belgeyi çerçevlendirir
- D) Hiçbiri

Belgedeki seçili metin görünümü diğer metinler görünüm kullanma yada

77. Yandaki şekilde görüldüğü gibi paragraf başlangıcındaki harfin daha büyük görünmesi için aşağıdakilerden hangisi yapılmalıdır?

- A) Giriş – Yazı tipi boyutu
- B) Ekle – WordArt
- C) Ekle – Büyük harf
- D) Giriş – Büyük küçük harf değiştir



78. Yandaki şekilde, görünüm sekmesindeki, Pencere seçenekleri görülmektedir. Birden fazla belgeyi aynı ekranda görmek üzere, aşağıdakilerden hangisi kullanılmalıdır?

- A) Yeni pencere
- B) Tümünü yerleştir
- C) Böl
- D) Pencereelerde geçiş yap

79. x_2 x^2 Simgesinin görevi aşağıdakilerden hangisidir?

- A) Alt simge ve üst simge ekleme
- B) X 'in karesini almaya
- C) X sayısını 2 ile çarpmaya
- D) Matematiksel işlemler yapmaya

İstatistikler:

Sayfa	8
Sözcük	2.695
Karakter (boşluksuz)	16.222
Karakter (boşluklu)	18.606
Paragraf	441
Satır	672

80. Metin kutuları, dipnotları ve son notları da ekle Yandaki şekilde, bir belgedeki sayfa sayısı, sözcük adedi, boşluklu ve boşluksuz karakter sayıları gibi istatistiksel bilgiler görülmektedir. Bu bilgilere aşağıdakilerden hangisi ile ulaşılır?

- A) Gözden geçir – Araştır
- B) Gözden geçir – Sözcük sayısı
- C) Gözden geçir – Yazım ve dilbilgisi
- D) Gözden geçir – Sözcük sayımı

81. “Yeni belge oluştur”, “Kaydet”, “Dosya aç” ve “Dosyayı yazıcıya gönder” işlemlerinin kısa yolları, sırasıyla aşağıdakilerden hangisidir?

- A) Ctrl+Y, Ctrl+K, Ctrl+D, Ctrl+P
- B) Ctrl+O, Ctrl+S, Ctrl+N, Ctrl+P
- C) Ctrl+N, Ctrl+S, Ctrl+O, Ctrl+P
- D) Ctrl+P, Ctrl+K, Ctrl+O, Ctrl+S

82. Metin Kutusunun kullanım amacı aşağıdakilerden hangisidir?

- A) Sayfaya metin yazmak
- B) Sayfaya kutu içinde metin yazmak
- C) Sütunlu yazılar oluşturabilmek
- D) Yazım alanından bağımsız metinler yazmak

83. Belge içinde seçim işlemleri yaparken aşağıdakilerden hangisi kullanılmaz?

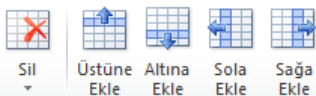
- A) Farenin sol tuşu
- B) Shift+Sol yön tuşu
- C) Shift+Alt+Sol ok
- D) Ctrl+Shift+Home

84. Sayfa: 14 / 20 Durum çubuğunda yandaki ifade görüntüleniyorsa, aşağıdakilerden hangisi doğrudur?

- A) Belgenin en fazla 20 sayfası olması gerektiği anlaşılır
- B) 14 sayfalı bir belgede çalışılmaktadır
- C) 20 sayfalı belgenin 14. Sayfası görüntülenmektedir
- D) 20 sayfalı belgenin 14. Sayfasından 20. Sayfasına kadar seçim yapılmıştır

85. Bir belgeyi yazıcıya gönderirken aşağıdakilerden hangisi yapılamaz?

- A) Sadece istenilen sayfaların yazdırılması ayarlanabilir
- B) İstenilen sayıda sayfa bir sayfaya sığdırılarak yazdırılabilir
- C) Birden fazla kopya yazdırılacağı zaman, sayfaların harmanlanması yapılabilir
- D) Birden fazla kopya yazıcı varsa, istenilen yazıcının seçimi ayarlanabilir



86. Yandaki düğmeler, aşağıdaki işlemlerden hangisi için kullanılır?

- A) Paragraf işlemleri

- B) Satır işlemleri
- C) Tablo işlemleri
- D) SmartArt



87. Yandaki düğmenin görevi nedir?

- A) Çizim araç çubuğunu ekleyip kaldırmayı sağlar
- B) Otomatik şekil eklememize yarar
- C) Paint programını açarak çizim yapmamızı sağlar
- D) Belgemize şekil eklemeye yarar


88. F5 kısa yol tuşunun görevi nedir?

- A) Son yapılan işlemi geri alır
- B) Bul ve değiştir penceresini açar
- C) Kopyalama işlemi yapar
- D) Son yapılan işlemi iptal eder




89. Yandaki düğmenin görevi aşağıdakilerden hangisidir?

- A) Seçili nesneyi kırpmayı sağlar
- B) Seçili alanları silip belleğe aktarmayı sağlar
- C) Seçili alanları geri döndürmeyecek şekilde silmeyi sağlar
- D) Seçili alanın istenilen kadarını kesmeyi sağlar

90.  Yandaki düğmeler, aşağıdaki işlemlerden hangisini yapmayı sağlar

- A) Paragraf girintilerini ayarlamayı sağlar
- B) Tablo içindeki yazıların tablo çizgilerine yakınlığını ayarlar
- C) Rakamların sola ya da sağa yaslı olarak yazılmasını sağlar
- D) Yatay çizilecek çubuk grafiklerinin yerleşim yerlerinin değiştirilmesini sağlar



91. Yandaki şekilde birden fazla sayfayı görmek için aşağıdakilerden hangisi kullanılmaz?

- A) Ctrl tuşu basılıyken farenin tekerleğini çevirmek
- B) Durum satırının sağ alt köşesindeki –(küçült) ve + (büyüt) düğmeleri kullanmak
- C) Görünüm sekmesinden Yakınlaştır düğmesi kullanılarak
- D) Görünüm sekmesinden Tümünü yerleştir kullanılarak

92. Dosyayı şifre vererek kaydetmek için aşağıdakilerden hangisi yapılmalıdır?

- A) Farklı kaydet – Araçlar – genel seçenekler
- B) Farklı kaydet – Ekle – Şifre
- C) Dosya – Kaydet – Şifreli kaydet
- B) Üstü çift çizili
- C) Çizgi kopyala
- D) Çizgi modu aç/kapa

D) Dosya – Özellikler – Şifre

93. Microsoft Word'de yandaki düğmenin görevi nedir?

- A) Tablo boyutunu ayarlar
- B) Sayıların başına yüzde işareti koymayı sağlar
- C) Sayfanın hangi oranda yakınlaştırılıp uzaklaştırılacağını ayarlar
- D) Sayfa sayısını artırıp azaltır

94. Kullanıcı tanımlı şablon dosyalarının uzantısı aşağıdakilerden hangisidir?

- A) .TMP
- B) .DOT
- C) .TMM
- D) .DOC

95. $\frac{D}{-}$ Simgesinin işlevi aşağıdakilerden hangisidir?

- A) Altı çift çizili

EXCEL

96. =EĞER(EHATALIYSA(A1/A2);"-";A1/A2) işleminin yaptığı iş aşağıdakilerden hangisidir?

- A) A1/A2 işlemini yapar
- B) A1/A2 işlem sonucunun önüne – işareti koyarak yazar
- C) A1/A2 işlemi yapılamıyorsa – yapılabiliyorsa sonucunu yazar
- D) A1/A2 işlem sonucunda hata yoksa -, hata varsa A1/A2 işlem sonucunu yazar

- B) Sol taraftaki düğmeler kullanılarak ilk sayfaya, son sayfaya hızlı bir şekilde geçilebilir
- C) Sol taraftaki düğmeler üzerinde farenin sağ tuşu ile sayfa listesine ulaşılabilir
- D) Hepsi yapılabilir

97. Excel'de yandaki şekle göre aşağıdakilerden hangisi yapılamaz?

- A) Sayfalar farenin sol tuşu ile tutulup istenilen sayfanın önüne veya arkasına taşınabilir

98. Bir sütunda bulunan sayısal verilerden istenilen koşula uyanların toplamını bulmak için aşağıdakilerden hangisi kullanılmalıdır?

- A) EĞER
- B) TOPLA
- C) EĞERSAY
- D) ETOPLA

99. Bir hücreye istenilen veri aralığında sayı girilmesini sağlamak için hangisi kullanılmalıdır?

- A) Filtreleme – Süzme
B) Sıralama
C) Veri doğrulama
D) Hücre özellikleri

Dikkat !!! 100 – 101 – 102 ve 103 nolu soruları, aşağıdaki tabloya göre cevaplayınız

	A	B	C	D	E	F
1	İLLERE GÖRE M ² YE DÜŞEN YAĞIŞ MİKTARI					
2		SONBHAR	KIŞ	İLKBAHAR	YAZ	TOPLAM
3	ADANA	25	32	30	8	95
4	HATAYA	56	62	70	12	200
5	İZMİR	44	74	40	10	168
6	ANKARA	34	58	80	15	187
7	TOPLAM	159	226	220	45	650

100. =YATAYARA("KIŞ";A2:F7;6;YANLIŞ) formülünün sonucu nedir?

- A) Kış
B) Yanlış
C) 62
D) 226

101. =TOPLA(MAK(B3:C4);MİN(D3:E4)) formülünün sonucu nedir?

- A) 95
B) 102
C) 132
D) 70

102. =EĞERSAY(B3:E6;"<30") formülünün sonucu aşağıdakilerden hangisidir?

- A) 5
B) 6
C) 7
D) 8

103. İllere göre yıllık yağış toplamını gösteren pasta grafiği çizmek istenirse, aşağıdaki hücre aralıklarından hangisi seçilmelidir?





- A) A3:A6 ve F3:F6
B) A3:F7
C) A2:F2 ve A7:F7
D) A2:F7 ve A7:F7

	A	B	C	D
1			8	
2	15			5
3				
4			12	
5	6			
6				3

104. Tabloya göre aşağıdakilerden hangisinin sonucu 7'dir?

- A) =A2+A5/D6
B) =(A2+A5)/D6
C) =C4 – (B1 + D6)
D) =TOPLA(A2:A5) – C4

105. 1545 sayısını 1.545,00 şekline getirmek için aşağıdaki simgelerden hangisi kullanılır?

- A) 
B) 
C) 
D) 

K	L	M
fiyat	adet	toplam
	12 3 tane	#DEĞER!

106. yandaki şekilde M2 hücresinde #DEĞER hatasının görüntülenme nedeni aşağıdakilerden hangisidir?

- A) M2 hücresine =K2*L2 formülünün yazılması
B) M2 hücresine "#DEĞER" metninin elle yazılması
C) K1 hücresine fiyat metnin yazılması
D) K2 hücresine 12 yazılması

107. Aşağıdakilerden hangisi yanlıştır?

- A) Formüllerde ardışık hücre gruplarını kullanmak için : (iki nokta üst üste) kullanılır
B) Fonksiyon adlarını yazarken mutlaka büyük harf kullanılmalıdır

- C) Noktalı virgül (;), komşu olamayan hücrelerin formüllerde kullanılmasını sağlar
D) Bir fonksiyona, başka bir sayfa veya kitaptaki hücre adresi de eklenebilir.

108. I. Ctrl+Page Down: Bir sonraki sayfaya geç
II. Ctrl+End: Tanımlı ens on hücreye git
III. Ctrl+AltOk: Bulunulan sütundaki en son dolu/ilk dolu hücreye git
IV. Ctrl+Home: Tablonun ilk dolu hücresine git

Yukarıdaki excel kısa yollarından hangisi yanlıştır?

- A) I
B) II
C) III
D) IV

109. A1 hücresine yazılan aşağıdaki fonksiyonlardan hangisi "Döngüsel Başvuru" içermektedir?

- A) =topla(a2:a10)
B) =eğersay(a2:a10;"50")
C) =A1+10
D) =A2

110. Yukarıdaki şekilde bulunan sekmeler, aşağıdakilerden hangisine aittir?

- A) Hücre biçimlendir
B) Sayfa özellikleri
C) Sekme rengi
D) Veri doğrulama

111. I. Gözden Geçir sekmesinden Sayfayı koru seçilir
II. Hücre Biçimlendir – Koruma – Kilitli seçeneğinin işareti kaldırılır
III. Kilidi kaldırılacak hücre grubu seçilir
IV. Sayfa koruması için parola belirlenir









Yukarıda, sayfa üzerine koruma koyma işlem adımları karışık sırayla verilmiştir. Bir sayfadaki istenilen hücrelerin koruma altına alınması (kullanılmasının engellenmesi istenilen hücrelerin ise kullanılabilir olarak bırakılabilmesi için yapılması gereken işlem adımlarının doğru sıralaması aşağıdakilerden hangisidir?

- A) III – I – IV – II
B) I – IV – II – III
C) I – IV – III – II
D) III – II – I – IV

112. Yandaki tabloyu

	A	B	C
1			
2			
3			

Şekilde göstermek için aşağıdaki simge çiftlerinden hangileri kullanılmalıdır?

- A)  simgesi ve  simgesi
B)  simgesi ve  simgesi
C)  simgesi ve  simgesi
D)  simgesi ve  simgesi

113. Verilen tabloya göre aylık ortalama gideri veren formül ve sonucu aşağıdakilerden hangisidir?

	A	B	C
1		GELİR	GİDER
2	OCAK	150	100
3	ŞUBAT	300	150
4	MART	250	200
5	NİSAN	200	500

- A) =ORTALAMA(B2:B5)
B) =ORTALAMA(C2:C5)
C) =ORTALAMA(B2;B5)
D) =ORTALAMA(C2;C5)

114. E15 hücresinde yazılı olan =TOPLA(d5:e10) formülünü F15 hücresine kopyaladığımızda ne olur?

- A) Değişiklik olmaz. İşlev =TOPLA(D5:E10) olarak kalır
 B) İşlev =TOPLA(F5:F15) olarak değişir
 C) İşlev =TOPLA(E5:F10) olarak değişir
 D) Hücre hata verir

f _x	3121112233
D	E
	(312) 111-22-33

115. Yandaki tabloda E1 hücresi aktif durumda iken formül satırında hücre için de bulunan değer görülmektedir. Hücrenin içinde 3121112233 değeri varken görüntünün (312) 111-22-33 şeklinde çıkmasını sağlamak için Hücre Biçimlendirme seçeneklerinden aşağıdakilerden hangisi yapılmıştır?

- A) Sayı
 B) Metin
 C) İsteğe uyarlanmış
 D) Genel

Sayfa	Kenar Boşlukları	Üstbilgi/Alt bilgi	Çalışma Sayfası
Yazdırma alanı:			
Başlıkları yazdır			
Üstte yinelenecek satırlar:			
Solda yinelenecek sütunlar:			

116. Yukarıdaki şekilde, Sayfa Yapısı seçeneklerinin Çalışma Sayfası sekmesindeki Başlıkları yazdır bölümü görülmektedir. Bu bölümde Üste yinelenecek satırlar ve Solda yinelenecek sütunlar seçenekleri aşağıdakilerden hangisi için kullanılır?

- A) Ekranda her bir sayfa görüntülenirken, en üst satırda ve en sol sütunda görüntülenecek satır ve sütunlar belirlenir.
 B) Yazıcıdan döküm alınırken her sayfada yazdırılması istenilen üst satır ve sol sütun belirlenir
 C) Excel sayfalarına yeni sayfa eklendiğinde hangi satır ve sütunların yeni sayfada da olması gerektiği belirlenir
 D) Üstte yinelenecek satırların ve solda yinelenecek sütunların kaç tane olacağı belirlenir

117. =KÖPRÜ(http://ornek.sinav.com/sonuclar.xls ;"sonuclar için tuşlayın") ifadesi üzerine tıkladığında aşağıdakilerden hangisi olur?

- A) İnternette bulunan ornek.sinav.com alanından sonuclar.xls dosyasını açar
 B) İnternet ortamında bulunan ornek.sinav.com alanından sonuclar.xls dosyasını aktif Excel sayfasına yapıştırır
 C) Aktif Excel uygulamasını kapatarak İnternet adresi belirtilen konuma geçer ve ilgili web sayfasını açar
 D) Komut hatalı işleme sonuçlanır

118. Aşağıdaki ifadelerin hangisi Excel uygulaması için doğrudur?

- A) >= işareti küçük eşit karşılaştırmasının yapar
 B) + işareti formül son eki olarak kullanılabilir
 C) Formül yazmaya = veya + işareti ile başlanabilir
 D) % işareti klasör adreslerini göstermek için kullanılır

	A	B	C	D	E	F	G
1	Sıra No	Tarih	Mkod	Mad	Birim Fiy	Adet	toplam fiy
2	1	02/12/2013	x02	armut	55,09 TL	3	165,27 TL
3	2	02/12/2014	x03	karpuz	107,79 TL	5	538,95 TL
4	3	02/12/2015	x02	armut	55,09 TL	20	1.101,80 TL
5	4	02/12/2016	x02	armut	55,09 TL	4	220,36 TL

119. Yukarıdaki tabloda yapılan filtrelemenin amacı, aşağıdakilerden hangisi olamaz?

- A) Aralık ayında satılan armutların listesi
 B) Aralık ayında 21 adedin altındaki ve birim fiyatı 50TL'nin üstündekileri listelemek
 C) Aralık ayında her malzemedenden toplam ne kadar satıldığını listelemek
 D) 200TL'nin üzerindeki satış toplamalarını görüntülemek

	A	B	C
1	Ad Soyad	Ad	Soyad
2	Ali Beyaz		
3	Hasan Kara		
4	Ayşe Sarı		
5	Zeynep Mavi		

120. Yandaki tabloda A sütununa ad soyad bilgileri birlikte girilmiştir. A sütunundaki bilgilerden sadece adların B sütununa ve soyadların C sütununa

aktarılmasını sağlamak için aşağıdakilerden hangisi yapılmalıdır?

- A) Metni sütunlara dönüştür
- B) Tabloyu iki tabloya böl
- C) Tek tek ad ve soyadları kopyalayarak B ve C sütunlarına yapıştır
- D) A2:A5 arası sütun seçilir, seçimin sağ alt köşesindeki "Doldur" (Siyah+) farenin sol tuşuyla çekilerek B ve C sütunlarına sürüklenir