

BİLGİSAYARA GİRİŞ

1. Aşağıdakilerden hangisi, bilgisayar sistemleri tarafından en çok kullanılan bir kod standardıdır?


- A) Byte
- B) Ascii
- C) Code
- D) Cpu

2. I. Paralel Port : Karakter ve satır yazıcıların bağlandığı port
II. USB Port : Flash Bellek, InkJet, LaserJet vb. birimlerin bağlandığı port
III. Serial Port : Seri okuma işlemlerinin gerektiği CD, DVD gibi birimlerin bağlandığı port
Yukarıdaki tanımlardan hangileri doğrudur?

- A) I - II
- B) I - III
- C) II - III
- D) I - II - III

3. Aşağıdaki açıklamalardan hangisi yanlıştır?

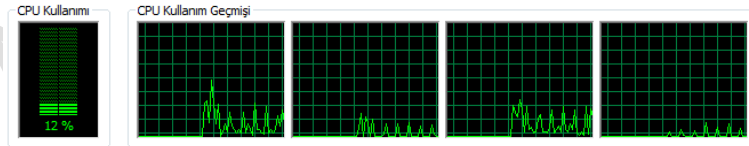
- A) Bilgisayarlara USB bağlantıları üzerinden birden fazla harici disk bağlanabilir.
- B) CD-R sadece okunabilir, CD-RW ise hem okunabilir hem yazılabilir CD'ler için kısaltmalardır.
- C) Bilgisayarlar Modem aracılığı ile internete bağlanabilirler.
- D) Bilgisayar arası bağlantılar için sadece wireless (kablosuz) bağlantı kullanılır.

Sistem	
Üretici:	Lenovo
Derecelendirme:	 Windows Deneyimi Dizini
İşlemci:	Intel(R) Core(TM) i5-2410M CPU @ 2.30GHz 2.30 GHz
Yüklü bellek (RAM):	3,00 GB
Sistem türü:	32 bit İşletim Sistemi

4.

Yukarıdaki bilgiler bilgisayarın işlemci, ana bellek gibi özelliklerini gösterir. Bu bilgilere aşağıdakilerden hangisi ile ulaşılır?

- A) Masaüstü üzerinde sağ tuş, Özellikler
- B) C sürücüsü üzerinde sağ tuş, Özellikler
- C) Bilgisayarım üzerinde sağ tuş, Özellikler
- D) Denetim Masasından Görüntü programını kullanarak



5.

Görev Yöneticisi'nden Performans sekmesi bölümünden yukarıdaki görüntü elde edilmiştir. Buna göre aşağıdakilerden hangisi doğrudur?

- A) Soldaki bölüm, bellekteki doluluk oranını göstermektedir.
- B) Dört bölüme ayrılmış bir işlemci kullanılmaktadır.
- C) Dört çekirdekli bir işlemci kullanılmaktadır.

D) Solda işlemcinin bugünkü, sağda ise son dört günlük geçmiş bilgileri gösterilmektedir.

6. I. EXE : Adıyla çalıştırılabilir dosya uzantısı
II. DOCX : Excel dosyalarının uzantısı
III. XLSX : Word dosyalarının uzantısı
IV. PPT : Power Point dosyalarının uzantısı
V. PDF : WordPad dosyalarının uzantısı

Yukarıdakilerden açıklamalardan hangileri yanlıştır?

- A) I – III – IV
B) II – III – V
C) II – IV – V
D) I – II – IV



7.

Yukarıda görülen klavyenin adı, aşağıdakilerden hangisidir?

- A) Q Türkçe Klavye
B) F Klavye
C) A Klavye
D) Dvorak Klavye



8.

Yukarıda bir bilgisayar sistemi görülmektedir. Sistemin çalışması için mutlaka olması gereken parçaların numaraları, aşağıdakilerden hangisinde doğru olarak verilmiştir?

- A) 1 – 3 – 7
B) 1 – 3 – 4 – 7
C) 1 – 2 – 3 – 4 – 7
D) 1 – 2 – 3 – 4 – 5 – 6 – 7





9. Aşağıdakilerden hangisi kapasite birimi değildir?

- A) Bit
B) Byte
C) Terabyte
D) Bios

10. I. Klavye üzerindeki ikincil karakterlerin (+ gibi) kullanılmasını sağlar
II. Klavye üzerindeki üçüncül karakterlerin (\$ işareti gibi) kullanılmasını sağlar
Yukarıda açıklanan tuş ikilisi aşağıdakilerden hangisidir?
A) NUM LOCK - CAPS LOCK
B) SHIFT- HOME
C) SHIFT- ALT GR
D) CTRL- ALTGR

11. **Aşağıdakilerden hangisi klavyedeki Yön Tuşlarından birisi değildir?**
A) Home
B) Insert
C) PageDown
D) End

12. **Şapkalı a (â) yazmak için aşağıdakilerden hangisi doğrudur?**
A) Önce şapkaya basılır, sonra a'ya basılır.
B) Önce a'ya basılır, sonra şapkaya basılır.
C) a ve şapka tuşlarına birlikte basılır.
D) a tuşu basılı tutulurken şapka tuşuna basılır.

13. I.  (Wireless)
II.  (Wireless)
III.  (BlueTooth)
IV.  (USB)

Yukarıdaki simge ve açıklamalardan hangileri doğrudur?

- A) I – III – IV
B) II – III – IV
C) I – II – III
D) I – II – III – IV

Kullanılan alan:	110.947.164.418 bayt	103 GB
Boş alan:	9.101.229.096 bayt	8,54 GB
Kapasite:	120.026.393.472 bayt	111 GB

14.



Yukarıda bir diskin dolu alan ve boş alan şeması görüntülenmektedir. Bu görünüme ulaşmak için aşağıdakilerden hangisi yapılmalıdır?

- A) Bilgisayarım üzerinden sağ tuş - Özellikler
B) Seçilen disk üzerinden sağ tuş - Özellikler
C) Seçilen disk üzerinden sol tuşa çift tıklama - Özellikler
D) Denetim Masası üzerinden Disk Özelliklerini Göster programı ile
15. **Bilgisayarın açılışında otomatik olarak devreye giren ve kullanıcı ile iletişim kurmasını sağlayan programlar topluluğuna genel olarak verilen isim aşağıdakilerden hangisidir?**
A) Facebook
B) Google

- C) Internet Explorer
D) İşletim Sistemi

WINDOWS İŞLETİM SİSTEMİ VE BELLEK HİZMET PROGRAMI

16. Windows uygulamalarında ekran görüntüsünün resmini kopyalamak için aşağıdaki tuşlardan hangisi kullanılır?
A) AltGr
B) Ctrl+C
C) PrtSc (Print Screen)
D) Page Up ve Page Down
17. Dosyanın yan bellek ortamındaki adresini tutan simgelere, dosyaların gruplandırılarak depolanmasını sağlayan taşıyıcılara (bileşenlere) adı verilir.
Yukarıdaki boşluklara sırasıyla aşağıdakilerden hangisi gelmelidir.
A) Kısayol – Klasör
B) Klasör – Kısayol
C) Dosya Adı – Klasör
D) Kısayol – Dosya Adı
18. I. Farenin sol ve sağ tuşlarının görevleri değiştirilebilir.
II. Farenin çift tıklama hızı değiştirilebilir.
III. Fare işaretçilerinin görünümleri değiştirilebilir.
IV. Fare işaretçisinin hareket ve görünürlük özellikleri değiştirilebilir.

Denetim masasından Fare özelliklerine girildiğinde, yukarıdaki değişikliklerden hangileri yapılabilir?

- A) I – II - IV
B) I – II
C) II – III – IV
D) I – II – III – IV
19. I. Başlat düğmesi + E : Windows Gezgini (Windows Explorer)
II. Başlat düğmesi + D : Masaüstü (Desktop)
III. Başlat düğmesi + R : Çalıştır (Run)
IV. Başlat düğmesi + F : Klasör Seçenekleri (Folder)



Yanda görülen Başlat düğmesi ile kullanılan kısayol tuşları yukarıda listelenmiştir. Yukarıdaki kısayollardan hangisi yanlıştır?

- A) I
B) II
C) III
D) IV
20. Paint programının varsayılan dosya uzantısı, Not Defteri programının varsayılan dosya uzantısı, Power Point tasarım dosyasının varsayılan uzantısıdır.

Yukarıdaki boşluklara sırasıyla aşağıdakilerden hangisi gelmelidir?

- A) BMP – PPT – TXT

- B) BMP – TXT – PPT
C) TXT – BMP – PPT
D) TXT – PPT – BMP

21. Bir pencerede ardışık dosyaları seçebilmek için, ardışık olmayan dosyaları seçmek için yardımcı tuşları kullanılır?







Yukarıdaki boşluklara sırasıyla aşağıdakilerden hangisi gelmelidir?

- A) Ctrl – Shift
B) Shift – Alt
C) Shift - Ctrl
D) Ctrl – Alt

22. I. Ctrl+A : Tümünü seç
II. Ctrl+V : Yapıştır
III. Ctrl+F : Kes
IV. Ctrl+S : Kaydet


Yukarıdaki kısayollardan hangisi yanlıştır?

- A) I
B) II
C) III
D) IV

Ad	Değiştirme tarihi	Tür	Boyut
 government_adres_cetin_k80.xlsx	22/08/2013 12:31	Microsoft Excel Çalışma ...	10 KB
 teğmen.txt	14/08/2013 14:36	Metin Belgesi	1 KB
 Kopya telefon listesi.xlsx	17/07/2013 12:43	Microsoft Excel Çalışma ...	11 KB
 Kopya Kopya kontenjan_taban_...	14/07/2013 19:07	Microsoft Excel 97-2003 ...	1.448 KB
 turker.docx	21/06/2013 01:47	Microsoft Word Belgesi	36 KB
 start.txt	10/06/2013 16:55	Metin Belgesi	1 KB

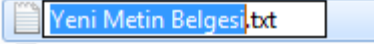
23. Yandaki şekilde görüldüğü gibi dosya listesini görüntülemek için Görünüm seçeneklerinden hangisi seçilmiştir?

- A) Küçük simgeler
B) Listele
C) İçerik
D) Ayrıntılar

 I. Mustafa Kemal ATATÜRK...
 II. Mustafa Kemal ATATÜRK....
 III. Mustafa Kemal ATATÜRK...
 IV. Mustafa Kemal ATATÜRK...

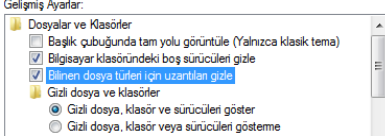
24. Yandaki dosyalardan hangileri kısayoldur ve silinse bile orijinal dosya silinmez?

- A) I - III
B) II - IV
C) Sadece I
D) Hepsi silinir

25.  Yandaki şekilde görüldüğü gibi bir dosya adını değiştirmek için aşağıdakilerden hangisi kullanılmaz?
- A) F2 tuşuna basılır
B) Farenin sol tuşu ile tıklanır
C) Fare sağ tuşundan yeniden adlandır seçilir
D) Farenin sağ tuşuna iki kere tıklanır.
26. Seçili nesnelere, klavyeden Ctrl tuşu basılı iken farenin sol tuşu ile tutup çekme işlemi, aşağıdaki işlemlerden hangisine karşılık gelir?
- A) Seçili nesnelere taşıma
B) Seçili nesnelere kısayollarını oluşturma
C) Seçili nesnelere başka bir sürüçüye taşıma
D) Seçili nesnelere kopyalama.
27. Denetim Masası öğesi olan Bölge ve Dil Seçenekleri ile aşağıdakilerden hangisi yapılamaz?
- A) F Klavye düzeni eklenebilir
B) Tarih görünümü değiştirilebilir
C) Windows görünüm dili değiştirilebilir
D) Varsayılan para birimi ayarı yapılabilir
28. I. Not Defteri : Metin belgeleri oluşturur
II. Paint : Resim belgeleri oluşturur
III. Internet Explorer : İnternet sayfaları oluşturur
IV. Hesap Makinası : Excel programı gibi hücrelerden oluşur.
- Yukarıdaki açıklamalardan hangileri yanlıştır?
- A) I – III
B) II – III
C) III – IV
D) I – IV
29. Aşağıdakilerden hangisi, standart bir Windows işletim sisteminde yapılamaz?
- A) Disk birleştirme işlemi
B) Disk temizleme işlemi
C) Diski birden fazla parçaya ayırma işlemi
D) Birden fazla dosya ve klasörü sıkıştırma işlemi
30. Aşağıdakilerden hangisi Görev Çubuğu (Taskbar) üzerinde yapılabilecek bir işlem değildir?
- A) Açık programlar arası geçiş
B) Kısayol (Shortcut) oluşturma
C) Dil (Language) değiştirme
D) Tarih/ Saat (Date/Time) ayarlama
31. Bilgisayara yüklenen programların kaldırılması için, aşağıdaki bölümlerden hangisi kullanılır?
- A) Masaüstü
B) Denetim Masası
C) Karşıdan Yüklenenler
D) Belgelerim

32. Aşağıdakilerden hangisi Windows kurulumundan gelen bir program değildir?

- A) Windows Gezini
- B) Wordpad
- C) Paint
- D) Word



33. Yandaki şekilde görülen ayarlara ulaşmak için aşağıdaki lardan hangisi kullanılır?

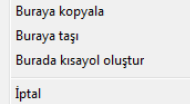
- A) Klasör seçenekleri
- B) Dosya seçenekleri
- C) Görünüm seçenekleri
- D) Güvenlik ayarları

34. Bilgisayarın korsan saldırılardan ve zararlı yazılımlardan korunması için Denetim Masası'ndaki hangi program kullanılmalıdır?

- A) Windows Güvenlik Duvarı
- B) Windows Update
- C) Bölge ve Dil Seçenekleri
- D) Program Ekle/Kaldır Ayarları

35. Bir dosya üzerinde aşağıdaki işlemlerden hangisi yapılamaz?

- A) Dosya özellikleri değiştirilebilir
- B) Dosya kopyalanıp, Bilgisayarım simgesine yapıştırılabilir.
- C) Dosya Geri Dönüşüm Kutusuna gönderilmeden silinebilir.
- D) Dosya başka bir klasörün içerisine taşınabilir



36. Yandaki kısayol menüsü, aşağıdaki hangi işlem yapıldığında görüntülenir?

- A) Seçili nesnelere farelin sol tuşu ile tutulup çekilerek bırakıldığında
- B) Seçili nesnelere farelin sağ tuşuna basıldığında
- C) Seçili nesnelere, farelin sol tuşu ile tutulup başka bir sürücü üzerine bırakıldığında
- D) Seçili nesnelere farelin sağ tuşu ile tutulup çekilerek bırakıldığında

37. Aktif uygulamayı kapatmak için tuşlarına, aktif pencereyi kapatmak için tuşlarına basılır.

Yukarıdaki boş alanlara sırayla aşağıdakilerden hangisi gelmelidir?

- A) Alt+F4 ve Ctrl+F4
- B) Ctrl+F4 ve Alt+F4
- C) Alt+F4 ve Shift+F4
- D) Ctrl+F4 ve Shift+F4

38. Not Defteri programında metin yazarken aşağıdakilerden hangisi yapılamaz?

- A) Seçili metin italik yapılabilir

- B) Seçili metin koyu (kalın) yapılabilir
C) Seçili metin ortalanabilir
D) Seçili metnin yazı boyutu değiştirilebilir

39. Bir dosyaya ad verirken aşağıdaki işaretlerden hangisi kullanılmaz?

- A) - (Tire)
B) * (Çarpı)
C) + (Artı)
D) . (Nokta)

40. Windows'da ALT+TAB tuşunun görevi aşağıdakilerden hangisidir?

- A) Denetim Menüsünü açar.
B) Açık penceredeki sekmeler arasında geçiş yapar.
C) Çalışan programlar arası geçişi sağlar.
D) Açık olan tüm programları kapatır.

41. Aşağıdakilerden hangisine dosya kopyalanıp yapıştırılmaz?

- A) C sürücüsü
B) D sürücüsü
C) Belgelerim
D) Bilgisayarım

42. Pencere bandını farenin sol tuşu ile çift tıklamak, aşağıdakilerden hangisini yapar?

- A) Aşağı geri getir/Ekranı kapla düğmesi gibi çalışır
B) Çalışan programı simge durumuna küçültmeyi sağlar
C) Çalışan programı kapatmayı sağlar
D) Çalışılan dosyanın adının değiştirilmesini ve kaydedilmesini sağlar

43. Media Player programı, aşağıdakilerden hangisini yapar?

- A) Günlük haber sitelerine bağlanır
B) Müzik ve film dosyalarını oynatır
C) Ses kayıt işlemlerini yapmayı sağlar
D) Media oyun programını başlatır

44. I. Disk Birleştirme İşlemi

II. RAM (Ana Bellek) Boyutu

III. Ekran Kartı Özellikleri

Aşağıdakilerden hangisi bilgisayarın çalışma ve görüntüleme hızını etkiler?

- A) I – II
B) II – III
C) I – III
D) I – II – III

45. Seçili dosyaları flash belleğe kopyalamak için aşağıdakilerden hangisi kullanılmaz?

- A) Ctrl+X ve Ctrl+V
B) Ctrl+C ve Ctrl+V
C) Farenin sağ tuşu - Gönder
D) Farenin sol tuşu ile tut, sürüküle, bırak

46. Adı A ile başlayan bütün Excel dosyalarını aramak için, arama alanına aşağıdakilerden hangisi yazılmalıdır?

- A) *.xls veya *.xlsx
B) xls veya xlsx
C) A.xls veya A.xlsx
D) A*.xls veya A*.xlsx

47. Masaüstü aktif durumdayken klavyeden Alt+F4 tuşuna basılırsa, aşağıdakilerden hangisi olur?

- A) Bilgisayar kapatılır
B) Masaüstü kapatılır
C) Bilgisayarın kapatılması penceresi görüntülenir
D) Açık olan tüm programlar kapanır ve daha sonra bilgisayar kapanır.

48. Windows yardım ekranını çağırmak için hangi fonksiyon tuşu kullanılır?

- A) F1
B) F2
C) F3
D) F4

49. I. Sol, Sağ, Üst, Alt Ok Tuşları
II. Home ve End Tuşları
III. PageUp ve PageDown Tuşları
IV. Insert Tuşu

Yukarıdaki klavye tuşlarından hangileri, Yön Tuşları olarak adlandırılır?

- A) I – II – III
B) I – II – IV
C) I – III – IV
D) I – II – III – IV

Ad	Değiştirme tarihi	Tür	Boyut
İletişim.txt	08/01/2014 13:34	Metin Belgesi	0 KB
I. Mustafa Kemal ATATÜRK...	08/01/2014 12:52	Kısayol	10 KB
II. Mustafa Kemal ATATÜRK...	08/01/2014 12:51	Microsoft Word Belgesi	0 KB
III. Mustafa Kemal ATATÜRK...	08/01/2014 12:51	Kısayol	10 KB
IV. Mustafa Kemal ATATÜRK...	08/01/2014 12:50	Metin Belgesi	0 KB

50.

Yukarıda, Windows Gezgini'nde bir klasör içindeki dosyalar listelenmiştir. Seçili olan İletişim.txt dosyasını silmek için aşağıdakilerden hangisi kullanılamaz?

- A) Backspace (Geriye doğru sil)
B) Delete
C) İletişim.txt üzerinde sağ tuş - Sil
D) Shift - Delete



51.

Yukarıdaki resimde klavyenin bir bölümü görülmektedir. Şekilde yuvarlak işaretli olan (sağda daha detaylı görülen) tuşun görevi aşağıdakilerden hangisidir?

- A) Ekrandaki herşeyin yazıcıya gönderilmesini sağlar
- B) Aktif programın menülerinin görüntülenmesini sağlar
- C) Açık programlar arasında geçiş yapmayı sağlar
- D) Farenin sağ tuşunun görevini yapar

52. Birden fazla dosyayı seçmek için aşağıdakilerden hangisi kullanılmaz?

- A) Ctrl+A tuşlarına basılır
- B) Shift tuşu basılı tutularak yön tuşları ile seçme yapılır
- C) Ctrl tuşu basılı tutularak farenin sol tuşu ile dosyalar tek tek seçilir
- D) Seçilecek dosyalar farenin sol tuşu ile tek tek tıklanır

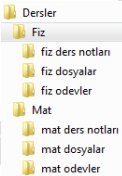
- 53. I. Windows : İşletim Sistemi
- II. Word : Kelime İşlem Programı
- III. Excel : Elektronik Hesap Tablosu Programı
- IV. Power Point : Sunu programı
- V. Outlook Express : Mail alma ve gönderme programı

Yukarıdaki eşleştirmelerden hangisi doğrudur?

- A) III
- B) IV
- C) V
- D) Hepsi doğru eşleştirmedir

54. Aşağıdakilerden hangisi doğrudur?

- A) Dosya silinse bile, önceden oluşturulan kısayolu kullanılarak geri kurtarılabilir
- B) Kısayol silindiğinde, kısayolun gösterdiği dosya silinmez.
- C) Dosya silindiğinde, dosyayı gösteren kısayollar da otomatik olarak silinir
- D) Kısayolun adı değiştirildiğinde, kısayolun gösterdiği dosyanın da adı değiştirilmelidir.



55. Yukarıdaki şekilde bir klasör şeması görülmektedir. Fiz klasörü seçili durumda iken klavyeden Delete tuşuna basıldığında aşağıdakilerden hangisi olur?

- A) Sadece Fiz klasörü silinir. Altındaki üç klasör Dersler klasörüne bağlanır.
- B) Sadece Fiz klasörü silinir. Altındaki üç klasör isteğe bağlı bir başka klasöre bağlanır.
- C) Fiz klasörü ve altındaki üç klasör birlikte silinir.
- D) Fiz ve Mat klasörleri ile altlarındaki tüm klasörler silinir.

- 56. I. Başlat+R ile Çalıştır açılıp notepad yazılarak Not Defteri programı çalıştırılır.
- II. Başlat menüsünden Programlar'dan, Donatılar bölümünden Not Defteri seçilip tıklanır.
- III. Boş bir alanda fare sağ tuşu menüsü açılıp Yeni menüsünden Metin Belgesi seçilip tıklanır.

Yukarıdakilerden hangisi ile bir Not Defteri programı çalıştırılabilir?

- A) I
- B) II
- C) III
- D) Hepsi ile çalıştırılabilir.



57. Yanda gördüğünüz simge, aşağıdakilerden hangisine aittir?

- A) Sıkıştırılmış klasör
- B) İçinde belgeler bulunan klasör
- C) Bilgisayara kayıtlı kitap listesi
- D) Bilgisayardaki tüm dökümanlar klasörü

58. Disk Birleştiricisi aşağıdaki işlemlerden hangisini yapar?

- A) Birden fazla diski tek disk gibi kullanmayı, böylece bilgilere daha hızlı ulaşmayı sağlar
- B) Birden fazla parçaya bölünmüş diskleri (C: D: gibi), tek disk haline getirmeyi sağlar.
- C) Disklerin daha verimli çalışabilmesi için parçalanmış verileri yeniden düzenler
- D) Disk, CD, Flash Bellek gibi farklı yan bellek alanlarını tek disk gibi birleştirmeyi sağlar.

59. Windows Gezgini ile aşağıdakilerden hangisi yapılamaz?

- A) Bir diskin adı değiştirilebilir.
- B) Bir disk, C: ve D: gibi iki parçaya ayrılabilir.
- C) Diskler üzerinde birleştirme, hata ayıklama gibi işlemler yapılabilir.
- D) Bilgisayarda gereksiz yer kaplayan dosyalar temizlenebilir.

60. Aşağıdaki web adreslerinden hangisi bir askeri kurumun web adresi olabilir?

- A) www.anadolu.edu.tr
- B) www.anadolu.gov.tr
- C) www.anadolu.ask.tr
- D) www.anadolu.mil.tr

61. Aşağıdaki mail adreslerinden hangisi hatalıdır?

- A) bilgi@abc.com
- B) bilgi@abc.net
- C) bilgi@com.com
- D) bilgi@com.tr



Internet Seçenekleri

62. Denetim masasında bulunan Internet seçenekleri ile aşağıdakilerden hangisi yapılamaz?

- A) Önceden gezilen sayfaların kalıntı bilgileri, gözetme geçmişleri silinebilir.
- B) Mail gönderme ve alma ayarları yapılabilir.
- C) İnternet Explorer için açılış sayfası ayarları değiştirilebilir.
- D) İnternet Güvenliği ayarları yapılabilir.

63. İnternet sayfalarında sürekli kullanılan www kısaltmasının açık adı, aşağıdakilerden hangisidir?

- A) World Wireless Web
- B) Wonderful World Web
- C) World Wide Web
- D) Web World Win

64. I. http
II. html
III. java
IV. www


Yukarıdakilerden hangisi internet sayfaları ile doğrudan ilgili değildir?

- A) I
B) II
C) III
D) IV

65. Kullanıcının izni ya da bilgisi dahilinde olmadan bilgisayarın çalışma şeklini değiştiren ve kendini diğer dosyaların içerisinde gizlemeye çalışan bilgisayar programlarına ne ad verilir?

- A) Virüs Programları
B) Sistem Programları
C) Bellek Programları
D) Dosya Sıkıştırma Programları

WORD

66.  Yandaki düğmelerin görevi sırayla aşağıdakilerden hangisidir?

- A) Tablo köşe ve kenarlıklarını ayarla
B) Sayfa köşe ve kenarlıklarını ayarla
C) Sol, orta ve sağ sekme seçimi yap
D) Yazıyı sola, ortaya, sağa yaslı yaz.



67. Stiller bölümündeki Başlık 1, Başlık 2 gibi başlık stilleri, hangi amaç için kullanılır?

- A) Belgeye ana ve ara başlık yazılacağı zaman
B) Otomatik içindekiler tablosu oluşturulmak istendiğinde
C) Otomatik olarak bütün paragraf başlıklarının ayarlanması gerektiğinde
D) Özel başlık çeşitleri oluşturularak daha vurgulayıcı belgeler hazırlanmak istendiğinde



68. "Kahve, Ceviz Ve Meyve Ver." Metninde arama ve değiştirme işlemi yapılacaktır. Aranan bölüme "ve", Yeni değer bölümüne "veya" yazıldıktan sonra yukarıdaki seçenekler işaretlenerek tümünü değiştir denilmiştir. Bu durumda değiştirilen yeni metin aşağıdakilerden hangisi olur?

- A) Kahveya, Ceviz veya Meyveya veyar
B) Kahve, Ceviz Veya Meyve Ver.
C) Kahveya, Ceviz Veya Meyve Veyar.
D) Kahve, Ceviz veya Meyve veyar.

Ekle sekmesinde, galeriler belgeni:

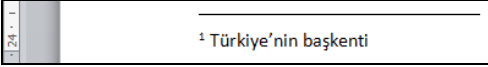
Bu galerileri, tablolar, üstbilgiler, a kullanabilirsiniz. Resimler, kartlar

69. görünümünüzü de düzenlerler. **Yandaki resimde görülen şekilde blok alabilmek için fare ile alanı taradan önce klavyeden hangi tuş basılı tutulmalıdır?**

- A) Shift
- B) Ctrl
- C) Alt
- D) Ctrl+Shift

70. **Yandaki düğmenin görevi nedir?**

- A) Belgedeki gizli simgeleri (basılmayan karakterleri) göster/gizle düğmesidir
- B) Satır sonlarını göster/gizle düğmesidir
- C) Metni sağa yaslı ve tersten göstermeyi ve tekrar eski haline getirmeyi sağlayan düğmedir
- D) Seçili alandaki tüm nesnelere işaretlemeyi sağlayan düğmedir



71. **Belgede, yandaki şekilde görülen bir metin varsa, aşağıdakilerden hangisi kullanılmış demektir?**

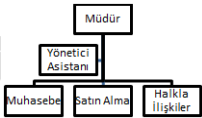
- A) Madde imleri ve numaralandırma
- B) Alt Bilgi ve Üst Bilgi
- C) Dipnot
- D) Çizgi, üst simge ve alt bilgi

72.

Yukarıdaki örnek tablo oluşturulurken, aşağıdakilerden hangisi kullanılmamıştır?

- A) Gölgeleme
- B) Hücreleri birleştirme
- C) Kenarlıklar
- D) Ortalama

73.



Yandaki hiyerarşi şemasını oluşturabilmek için aşağıdakilerden hangisi kullanılmıştır?

- A) Ekle - Şekiller
- B) Ekle - SmartArt
- C) Ekle - Grafik
- D) Ekle - Hiyerarşi Tablosu

yeni Tema öğeleri seçin.
ini Değiştir komutunu
an özgün haline geri

Açıklama [T1]: Burayı Şablon olarak
değiştirin.

74.

hangi özellik kullanılmıştır?

- A) Değişiklikleri İzle
- B) Biçimlendirmeyi Göster
- C) Yeni Açıklama
- D) Düzeltmeleri Öner

Yandaki şekilde, Gözden Geçir bölümündeki

75.



Yandaki simgeler, sırasıyla aşağıdakilerden hangisidir?

- A) Resim – Küçük Resim – Şekiller – Klasörler
- B) Resim – Küçük Resim – Şekiller – SmartArt
- C) Küçük Resim – Resim – Şekiller – Grafik
- D) Küçük Resim – Resim – SmartArt – Şekiller

76.

- I. **Ctrl+Home: Satırın başına git**
- II. **Ctrl+End: Dosyanın sonuna git**
- III. **Shift+Home: İmlecin bulunduğu yerden satırın başına blokla**
- IV. **Ctrl+ÜstOk: İmleci bir üst satıra çıkart**

Yukarıdaki tanımlamalardan hangileri doğrudur?

- A) I – II
- B) II – III
- C) II – IV
- D) II – III – IV

77.

Aşağıdaki açıklamalardan hangisi **yanlıştır**?

- A) Metin içinde Ctrl+Sol Tuş tıklaması ile istenilen bir yere imleci götürmek için Köprü kullanılır.
- B) Metin içinde istenilen bir yere Köprü ile ulaşmak için Yer İşareti konulur.
- C) Başlık stilleri aynı zamanda Yer İşaretleridir.
- D) Metne Köprü eklemek için Yer İşareti kullanılmak zorundadır.

78.

Belgenin ilk beş sayfasına Romen rakamları ile (i,ii,...), geride kalan sayfaları normal rakamlarla (1,2,...) şeklinde numaralandırabilmek için aşağıdakilerden hangisi kullanılmalıdır?

- A) 5. Sayfanın bitişine bölüm kesmesi eklenir
- B) 5. Sayfanın bitişine sayfa kesmesi eklenir
- C) 6. Sayfanın başına Üst Bilgi ve Alt Bilgi eklenir
- D) Bu işlem yapılamaz. İki belge halinde ayrı ayrı hazırlamak ve numaralamak gerekir.

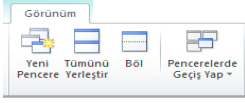
B elgedeki seçili me
metin görünümür
diğer denetimleri

79.

görünüm kullanma ya da Yandaki şekilde görüldüğü gibi paragraf başlangıcındaki harfin daha büyük görünmesi için aşağıdakilerden hangisi yapılmalıdır?

- A) Giriş – Yazı Tipi Boyutu
- B) Ekle – WordArt
- C) Ekle – Büyük Harf

D) Giriş – Büyük küçük harf değiştir



80. Yandaki şekilde, Görünüm sekmesindeki Pencere seçenekleri görülmektedir. Aynı belge üzerinde iki pencere halinde çalışmayı sağlayan seçenek aşağıdakilerden hangisidir?

- A) Yeni Pencere
- B) Tümünü Yerleştir
- C) Böl
- D) Pencerelerde Geçiş Yap



Resim Yazısı Ekle

81. Başvurular sekmesinde yer alan Resim Yazısı Ekle düğmesinin kullanım amacı, aşağıdakilerden hangisidir?

- A) Resimlere açıklayıcı yazılar ekleme
- B) Belgedeki resimlere otomatik numara verme ve otomatik şekiller tablosu oluşturma
- C) Resim Yazısı fontunda yazı yazma
- D) Resimlerin üzerine yazı ekleme, eklenen yazıları değiştirme ve silme

İstatistikler:	
Sayfa	22
Sözcük	4.385
Karakter (boşluktuz)	26.558
Karakter (boşluklu)	30.528
Paragraf	741
Satır	924

82. Metin kutuları, dipnotları ve son notları da ekle Yandaki şekilde, bir belgedeki sayfa sayısı, sözcük adedi, boşluklu ve boşluktuz karakter sayıları gibi istatistiksel bilgiler görülmektedir. Bu bilgilere aşağıdakilerden hangisi ile ulaşılır?


- A) Gözden Geçir – Araştır
- B) Gözden Geçir – Eş Anlamlılar
- C) Gözden Geçir – Yazım ve Dilbilgisi
- D) Gözden Geçir – Sözcük Sayımı

83. “Yeni belge oluştur”, “Kaydet”, “Dosya aç” ve “Dosyayı yazıcıya gönder” işlemlerinin kısayolları, sırasıyla aşağıdakilerden hangisidir?

- A) Ctrl+Y, Ctrl+K, Ctrl+D, Ctrl+P
- B) Ctrl+O, Ctrl+S, Ctrl+N, Ctrl+P
- C) Ctrl+N, Ctrl+S, Ctrl+O, Ctrl+P
- D) Ctrl+P, Ctrl+K, Ctrl+O, Ctrl+S

84. Metin Kutusu'nun kullanım amacı, aşağıdakilerden hangisidir?

- A) Sayfaya metin yazmak
- B) Sayfaya kutu içinde metin yazmak
- C) Sütunlu yazılar oluşturabilmek
- D) Yazım alanından bağımsız metinler yazmak



85. Yandaki düğmeler aşağıdakilerden hangisi için kullanılır?

- A) Tablo içindeki yazıların konumlarını belirleme
- B) Seçili paragrafın sayfa üzerindeki konumunu belirleme
- C) Metin kutusu
- D) Sayfa numarası vermeyi sağlar

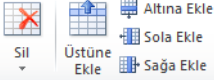
Sayfa: 14 / 20

86. Durum çubuğunda yandaki ifade görüntüleniyorsa, aşağıdakilerden hangisi doğrudur?

- A) Belgenin en fazla 20 sayfa olması gerektiği anlaşılır
- B) 14 sayfalı bir belgede çalışılmaktadır.
- C) 20 sayfalı bir belgenin 14. sayfası görüntülenmektedir.
- D) 20 sayfalı bir belgenin 14. Sayfasından 20. Sayfasına kadar seçim yapılmıştır.

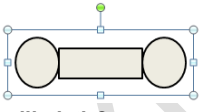
87. Bir belgeyi yazıcıya gönderirken aşağıdakilerden hangisi yapılamaz?

- A) Sadece istenilen sayfaların yazdırılması ayarlanabilir
- B) İstenilen sayıda sayfa bir sayfaya sığdırılarak yazdırılabilir
- C) Birden fazla kopya yazdırılacağı zaman, sayfaların harmanlanması yapılabilir
- D) Birden fazla yazıcı varsa, istenilen yazıcının seçimi ayarlanabilir



88. Yandaki düğmeler, aşağıdaki işlemlerden hangisi için kullanılır?

- A) Paragraf işlemleri
- B) Satır işlemleri
- C) Tablo işlemleri
- D) SmartArt İşlemleri



89. Yandaki şekilde yapılan işlem, aşağıdakilerden hangisinde doğru ifade edilmiştir?

- A) Ekle sekmesindeki şekiller içinden yukarıdaki hazır şekil bulunup çizdirilmiştir.
- B) Şekiller çizildikten sonra Shift tuşu basılı tutularak tek tek tıklanmıştır.
- C) Şekiller, bir metin kutusu içerisine çizilmiştir.
- D) Şekiller çizilip seçildikten sonra gruplandırılmıştır

90. X_1^2 Yazarken aşağıdakilerden hangisi kullanılmıştır?

- A) Alt simge – Üst simge – Normal simge
- B) Üst simge – Alt simge – Normal simge
- C) Normal simge – Üst simge – Alt simge
- D) Normal simge – Alt simge – Üst simge



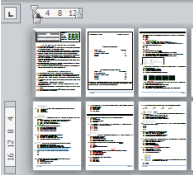
91. **Yandaki düğmenin görevi aşağıdakilerden hangisidir?**

- A) Seçili nesneyi Kırpmayı (kesmeyi) sağlar
- B) Seçili alanları silip belleğe aktarmayı sağlar
- C) Seçili alanları geri dönülmeyecek şekilde silmeyi sağlar
- D) Seçili alanların istenilen kadarını kesmeyi sağlar



92. **Yandaki düğmeler, aşağıdaki işlemlerden hangisini yapmayı sağlar?**

- A) Paragraf girintilerini ayarlamayı sağlar
- B) Tablo içindeki yazıların tablo çizgilerine yakınlığını ayarlar
- C) Rakamların sola veya sağa yaslı olarak yazılmasını sağlar
- D) Yatay çizilecek çubuk grafiklerinin yerleşim yerlerinin değiştirilmesini sağlar



93. **Yandaki şekilde birden fazla sayfayı bir arada görmek için aşağıdakilerden hangisi kullanılmaz?**

- A) Ctrl tuşu basılı iken farenin tekerleğini çevirerek
- B) Durum satırının sağ alt köşesindeki – (küçült) ve + (büyüt) düğmeleri kullanarak
- C) Görünüm sekmesinden Yakınlaştır düğmesi kullanılarak
- D) Görünüm sekmesinden Tümünü Yerleştir kullanılarak

94. **Dosyayı şifre vererek kaydetmek için aşağıdakilerden hangisi yapılmalıdır?**

- A) Farklı kaydet – Araçlar – Genel Seçenekler
- B) Farklı kaydet – Ekle – Şifre
- C) Dosya – Kaydet – Şifreli kaydet
- D) Dosya – Özellikler – Şifre




95. **Yandaki iki düğmenin kullanım amaçları, aşağıdakilerden hangisinde doğru sırayla verilmiştir?**

- A) Resmi sola döndür – Resmi baş aşağı döndür
- B) Sayfayı sola çevir – Sayfayı sağa çevir
- C) Geri Al – Yinele
- D) Sola kıvrımlı ok çiz – Ucu ok şeklinde daire çiz

EXCEL

STOK LİSTESİ									
Sıra No	Malzeme Kodu	Malzeme Adı	Birim Fiyat (USD)	Birim Fiyat TL	KDV	Toplam Fiyat	Stok Mevcut	Genel Toplam	
1	x01	elma	\$12,00	24,36 TL	4,38 TL	28,74 TL	12	344,94 TL	
2	x02	armut	\$23,00	46,69 TL	8,40 TL	55,09 TL	32	1.763,01 TL	
3	x03	karpuz	\$45,00	91,35 TL	16,44 TL	107,79 TL	65	7.006,55 TL	
4	x04	muz	\$5,60	11,37 TL	2,05 TL	13,41 TL	45	603,64 TL	
5	x05	kayısı	\$12,30	24,97 TL	4,49 TL	29,46 TL	78	2.298,15 TL	
6	x06	yerelması	\$14,50	29,44 TL	5,30 TL	34,73 TL	98	3.403,86 TL	

Aşağıdaki 96, 97, 98 ve 99 nolu soruları, yukarıdaki Excel tablosuna göre yanıtlayınız.

96. Yukarıdaki tabloya bakılarak aşağıdakilerden hangisinin kesinlikle kullanıldığı söylenemez?
- A) Hücre biçimlendirme
B) Birleştir ve ortala
C) Mutlak hücre adresi
D) **EĞER komutu**
97. Genel Toplam sütunundaki I3 hücresinde aşağıdaki formüllerden hangisi olamaz?
- A) = G3 * H3
B) = ÇARPIM(G3:H3)
C) = **ÇARPIM(G3xH3)**
D) = ÇARPIM(G3;H3)
98. Şekildeki E5 hücresi aktif hücredir. Formül satırında E5 hücresinin içeriği görülmektedir. E5 hücresi E6'ya kopyalandığında E6 hücresinde aşağıdaki formüllerden hangisi olur?
- A) =D6*Parametre!\$B\$2
B) =**D6*Parametre!\$B\$1**
C) =D5*Parametre!\$B\$1
D) =D5*Parametre!\$B\$2
99. İkinci satırdaki sütun başlıkları, aynı hücreye iki satır yazılacak şekilde ayarlanmıştır. Bir hücreye birden fazla satır girebilmek için kullanılan yöntemlerden hangisi, aşağıdakilerden biri değildir?
- A) **Satır bitiminde Enter tuşuna basılır**
B) Aynı hücrede alt satıra geçmek için Alt+Enter tuşlarına basılır
C) Hücre Biçimlendir – Hizalama – Metni Kaydır işaretlenir
D) Giriş sekmesindeki  düğmesi kullanılır.
100. =DÜŞEYARA(C2;Liste!\$B\$3:\$C\$16;2;YANLIŞ)
Yukarıdaki formüle göre aşağıdakilerden hangisi yanlıştır?
- A) Aranılan değer C2 hücresindedir
B) Verilerin bulunduğu tablo Liste sayfasının B3:C16 mutlak aralığındadır
C) Aranılan değer bulunursa Liste sayfasındaki C sütununda bulunan değer getirilecektir
D) **Aranılan değer bulunamazsa, Yanlış değeri gelecektir.**

101. =EĞERSAY(A1:A10;"<50") komutunun işlevi, aşağıdakilerden hangisinde doğru olarak açıklanmıştır?

- A) A1 ile A10 arasındaki hücrelerde "<50" metninden kaç tane olduğunu bulur
- B) A1 ile A10 hücrelerinden hangisindeki değerin 50'den küçük olduğunu bulur
- C) A1 ile A10 arasındaki hücrelerde 50'den küçük değer sayısını bulur
- D) Komutun yazımında hata vardır. Bundan dolayı hücreye #AD yazar

102. I. Hücelere girilecek değer aralıkları belirlenebilir. Hatalı durumda uyarı verilebilir.
II. Hücre değerleri kontrol edilerek, istenilen koşula uyan hücrelerin renkleri değiştirilebilir.
III. Bir formülü etkileyen hücreler ile hücreden etkilenen formülü hücreleri oklarla gösterilebilir.
IV. Bir grup hücre seçilerek ad verilebilir

Yukarıdakilerden hangileri Excel ile yapılabilecek işlemlerdir?

- A) I – II – III
- B) I – III – IV
- C) II – III – IV
- D) I – II – III – IV



103. Yandaki simge, aşağıdaki işlemlerden hangisine aittir?

- A) Satır ve sütun değiştir
- B) Pivot Table (Özet Tablo) oluştur
- C) Tüm sayfayı seç
- D) Yatay ve dikey dikdörtgen çiz

	A	B	C	D
1	12	32	45	26
2	23	11	22	15

104. Yandaki tabloya göre =TOPLA(MİN(A1:B2);MİN(C2;D1)) fonksiyonu ile elde edilecek değer, aşağıdakilerden hangisidir?

- A) 33
- B) 56
- C) 11
- D) 29

K	L	M
fiyat	adet	toplam
12	3 tane	#DEĞER!

105. Yandaki şekilde M2 hücresinde #DEĞER! hatasının görüntülenme nedeni aşağıdakilerden hangisidir?

- A) M2 hücresine =K2*L2 formülünün yazılması
- B) M2 hücresine "#DEĞER!" metninin elle yazılması
- C) K1 hücresine fiyat metninin yazılması
- D) K2 hücresinde 12 yazması

	A	B	C
1	3		5
2			
3		8	

106. Yandaki şekilde B3 hücresine =A1+C1 formülü girilmiştir. B3 hücresindeki formüle giren hücrelerin okla gösterilmesini sağlamak için aşağıdakilerden hangisi kullanılmıştır?

- A) Formülleri okla göster
- B) Etkilenenleri izle
- C) Etkileyenleri izle
- D) Formül sonucunu grafikte göster

107. I. Ctrl+Page Down : Bir sonraki sayfaya geç

II. Ctrl+End : Tanımlı en son hücreye git

III. Ctrl+AltOk : Bulunulan hücrenin altındaki sütunda en son dolu/ilk dolu hücreye git

IV. Ctrl+Home : Tablonun ilk dolu hücresine git

Yukarıdaki Excel kısayollarından hangisi yanlıştır?

- A) I
- B) II
- C) III
- D) IV

	A	B	C	D	E	F	G
1	3	alt	5				
2		0			=BAĞ_DEĞ_DOLU_SAY(A1:C3)		
3	veli	8					

108. Yandaki şekilde E2 hücresine =BAĞ_DEĞ_DOLU_SAY(A1:C3) formülü yazılmıştır. Enter tuşuna basıldığında E2 hücresinde aşağıdakilerden hangisi görülür?

- A) 4
- B) 5
- C) 6
- D) BAĞ_DEĞ_DOLU_SAY(A1:C3) metni

109. Bir formülde kullanılan \$C8 hücre adresinin anlamı, aşağıdakilerden hangisinde doğru olarak verilmiştir?

- A) C8 hücre adresi mutlak adres yapılmıştır, formül kopyalansa da değişmeyecektir.
- B) Sadece C sütunu mutlak adres yapılmıştır, formül kopyalansa satır değişir, sütun değişmez
- C) Sadece 8. Satır mutlak adres yapılmıştır, formül kopyalansa satır değişmez, sütun değişir
- D) Formülde hücre adresi yanlış yazılmıştır. Bundan dolayı formülün yazıldığı hücreye #AD! yazar.

110. I. Gözden Geçir sekmesinden Sayfayı Korumayı seçilir

II. Hücre Biçimlendir – Korumayı – Kilitli seçeneğinin işareti kaldırılır

III. Kilidi kaldırılacak hücre grubu seçilir

IV. Sayfa Koruması için parola belirlenir


Yukarıda, sayfa üzerine koruma koyma işlem adımları karışık sırayla verilmiştir. Bir sayfadan istenilen hücrelerin koruma altına alınması (kullanılmasının engellenmesi), istenilen hücrelerin ise kullanılabilir olarak bırakılması için yapılması gereken işlem adımlarının doğru sıralaması aşağıdakilerden hangisidir?

- A) III – I – IV – II
- B) I – IV – II – III
- C) I – IV – III – II
- D) III – II – I – IV

	A	B	C	D	E	F	G	H
1	20140125	=BİRLEŞTİR(SAĞDAN(A1;2);"/";PARÇAAAL(A1;5;2);"/";SOLDAN(A1;4))						
2								

111. Yandaki şekilde görüldüğü gibi A1 hücresine 20140125 değeri girilmiştir. B1 hücresine yazılan =BİRLEŞTİR(SAĞDAN(A1;2);"/";PARÇAAAL(A1;5;2);"/";SOLDAN(A1;4)) formülünün sonucu aşağıdakilerden hangisidir?

- A) 20140125
- B) 2015/01/25
- C) 25012014
- D) 25/01/2014



112.

Yukarıdaki grafiğe bakarak aşağıdakilerden hangisi kesin olarak söylenemez?

- A) Nisan ayında en az satış yapılmış olması, stok yetersizliğinden kaynaklanmıştır.
- B) Şubat ayındaki satışlar, diğer aylara göre daha yüksek olmuştur.
- C) Ocak ayı satışları ile Şubat ayı satışları arasında yaklaşık 600 adet fark vardır.
- D) Mevsimlerin (Kış ve ilkbahar) son aylarında yapılan satışlar, diğer aylardan daha yüksektir.

	A	B	C	D	E	F
1	75	20	=EĞER(VE(A1>=50;B1<=50);A1+B1;A1-B1)			

113. A1 hücresinde 75, B1 hücresinde 20 varken C1 hücresine =EĞER(VE(A1>=50;B1<=50);A1+B1;A1-B1) formülü yazılırsa, C1'de oluşacak değer aşağıdakilerden hangisidir?

- A) 20
- B) 55
- C) 75
- D) 95

	D	E	F
fx		3121112233	
		(312) 111-22-33	

114. Yandaki tabloda E1 hücresi aktif durumda iken formül satırında hücre içinde bulunan değer görülmektedir. Hücrenin içinde 3121112233 değeri varken görüntü-

nün (312) 111-22-33 şeklinde çıkmasını sağlamak için Hücre Biçimlendirme seçeneklerinden aşağıdakilerden hangisi yapılmıştır?

- A) Sayı
- B) Metin
- C) İsteğe uyarlanmış
- D) Genel

115. Yandaki şekilde, Sayfa Yapısı seçeneklerinin Çalışma Sayfası sekmesindeki Başlıkları Yazdır bölümü görülmektedir. Bu bölümde Üstte yinelenen satırlar ve Solda yinelenen sütunlar seçenekleri aşağıdakilerden hangisi için kullanılır?

- A) Ekranda her bir sayfa görüntülenirken, en üst satırda ve en sol sütunda görüntülenecek satır ve sütunlar belirlenir.
- B) Yazıcıdan döküm alınırken her sayfada yazdırılması istenilen üst satır ve sol sütun belirlenir
- C) Excel sayfalarına yeni sayfa eklendiğinde hangi satır ve sütunların yeni sayfada da olması gerektiği belirlenir.
- D) Üstte yinelenen satırların ve solda yinelenen sütunların kaçar tane olacağı belirlenir.

116. Bir hücreye formül yazarken = veya + işareti ile formüle başlanır. C3 hücresine formül yazarken = işaretine basıldıktan sonra A3 hücresinin adresini formüle eklemek için aşağıdakilerden hangisi yapılamaz?

- A) Fare ile A3 hücresine tıklanır
- B) Klavyeden sol ok tuşuna iki kere basılır
- C) Klavyeden A3 karakterleri yazılır
- D) Fare ile A sütun başlığına ve 3 satır başlığına tıklanır.

117. Aşağıdakilerden hangisi yanlış hücre adresi gösterimidir?

- A) [Kitap1]Sayfa1!A4
- B) [Kitap1]Sayfa1!\$A\$4
- C) Sayfa1!\$A4
- D) Sayfa1\$A\$4

	A	B	C	D	E	F	G
1	SıraNo	Tarih	Mkod	Mad	Birim Fiyat	Adet	Toplam Fiy
2	1	02/12/2013	x02	armut	55,09 TL	3	165,28 TL
3	2	02/12/2013	x03	karpuz	107,79 TL	5	538,97 TL
4	3	02/12/2013	x02	armut	55,09 TL	20	1.101,88 TL
5	4	02/12/2013	x02	armut	55,09 TL	4	220,38 TL

118. Yandaki tabloda filtreleme kullanımının amacı, aşağıdakilerden hangisi olamaz?

- A) Aralık ayında satılan armutların listesini görüntülemek
- B) Aralık ayında yapılan 10 adedin altındaki ve birim fiyatı 50 TL'nin üstündekileri listelemek
- C) Aralık ayında her bir malzemenin toplam ne kadar satıldığını listelemek
- D) 200 TL ve üstünde satış toplamlarını görüntülemek

	A	B	C	D
1	Ad Soyad	Ad	Soyad	
2	Ali Beyaz			
3	Hasan Kara			
4	Ayşe Sarı			
5	Zeynep Mavi			

119.

Yandaki tabloda A sütununa ad soyad bilgileri birlikte girilmiştir. A sütunundaki herkesin sadece bir adı ve bir soyadı vardır (iki isimli kimse bulunmamaktadır). A sütunundaki bilgilerden sadece adların B sütununa ve soyadların C sütununa toptan aktarılmasını sağlamak için aşağıdakilerden hangisi yapılmalıdır?

- A) Metni sütunlara dönüştür
 B) Tabloyu iki tabloya böl
 C) Tek tek ad ve soyadları kopyalayarak B ve C sütunlarına yapıştır
 D) A2:A5 arası sütun seçilir, seçimin sağ alt köşesindeki "Doldur" (siyah +) fareinin sol tuşu ile tutulup çekilerek B ve C sütunlarına sürüklenir.

	A	B	C	D	E	F	G	H	I
1		Ocak	Şubat	Mart			Ali	Veli	Ayşe
2	Ali	12	77	34		Ocak	12	23	54
3	Veli	23	55	33		Şubat	77	55	65
4	Ayşe	54	65	76		Mart	34	33	76

120.

A1:D4 arasındaki tablonun, şekilde okla gösterildiği gibi satırlarının sütun, sütunlarının satır olarak değiştirilmesi isteniyor. Bunun için aşağıdaki işlemlerden hangisi yapılmalıdır?

- A) Bütün değerler tek tek yeni tabloya yazılır.
 B) Metinsel fonksiyonlar kullanılarak yeni tablo oluşturulabilir.
 C) A1:D4 tablosu kopyalanır, F1 hücresi seçilir, özel yapıdır, işlemi tersine çevir işaretlenir.
 D) A1:D4 tablosu kopyalanır, F1:I4 hücreleri arası seçilir, özel yapıdır, değerleri yapıştır seçilir.

OCAK 2014 İŞL CEVAPLAR

1	B	48	A	95	C
2	A	49	A	96	D
3	D	50	A	97	C
4	C	51	D	98	B
5	C	52	D	99	A
6	B	53	D	100	D
7	B	54	B	101	C
8	A	55	C	102	D
9	D	56	D	103	B
10	C	57	A	104	A
11	B	58	C	105	A
12	A	59	B	106	C
13	D	60	D	107	D
14	B	61	D	108	C

15	D
16	C
17	C
18	D
19	D
20	B
21	C
22	C
23	D
24	A
25	D
26	D
27	C
28	C
29	C
30	B
31	B
32	D
33	A
34	A
35	B
36	D
37	A
38	C
39	B
40	C
41	D
42	A
43	B
44	D
45	A

62	B	109	B
63	C	110	D
64	C	111	D
65	A	112	A
66	C	113	D
67	A	114	C
68	D	115	B
69	C	116	D
70	A	117	D
71	C	118	C
72	D	119	A
73	B	120	C
74	C		
75	B		
76	B		
77	D		
78	A		
79	C		
80	C		
81	B		
82	D		
83	C		
84	D		
85	A		
86	C		
87	B		
88	C		
89	D		
90	D		
91	B		
92	A		

46	D
47	C

93	D
94	A

AYDIN AKADEMİ