

BİLGİSAYARA GİRİŞ

- Bir bilgisayar sisteminde aşağıdaki programlardan hangisinin olması zorunludur?**
 - Windows
 - Word
 - Excel
 - Internet
- Bilgisayarla flash bellek arasındaki bağlantıyı sağlayan port adı, aşağıdakilerden hangisidir?**
 - Serial port
 - Paralel port
 - Usb port
 - Card reader
- Aşağıdaki açıklamalardan hangisi yanlıştır?**
 - Dpi (Dot per inch) ekranlarda ve yazıcılarda kullanılan bir birimdir.
 - Yazıcının veri kablosu USB veya LPT olarak iki çeşittir.
 - Flash Disk, taşınabilir bellektir.
 - LCD ve Flat terimleri yazıcılar ile ilgilidir.
- Bilgilerin manyetik ortamda saklandığı yere ne ad verilir?**
 - Eprom
 - Harddisk
 - Dosya
 - Bellek
- Aşağıdakilerden hangisi yanlıştır?**
 - rpm, disk plakalarının dönüş hızıdır
 - pixel, ekrandaki her bir noktaya verilen addr
 - RAM, rasgele erişimli bellektir
 - CD sürücüler, DVD de okuyabilir.
- Aşağıdakilerden hangisi doğrudan çalışabilir bir dosya türüdür?**
 - Belge. EXE
 - Belge. XLS
 - Belge. BMP
 - Belge. DOC
- Birden fazla bilgisayar arasında kablo bağlantısı kurmak için aşağıdakilerden hangisi kullanılmıdır?**
 - BlueTooth
 - Modem
 - Ethernet
 - Hub, Switch
- Aşağıdakilerden hangisi merkezi işlem birimidir?**
 - ALU
 - AGP

- C) AnaKart
- D) Cpu

9. Aşağıdakilerden hangisi kapasite birimi değildir?

- A) Bit
- B) Bios
- C) Byte
- D) Terabyte

10. I. Klavye üzerindeki ikincil karakterlerin kullanılmasını sağlar
II. Klavye üzerindeki üçüncül karakterlerin kullanılmasını sağlar
Yukarıda açıklanan tuş ikilisi aşağıdakilerden hangisidir?

- A) NUM LOCK - CAPS LOCK
- B) SHIFT- ALT GR
- C) SHIFT- HOME
- D) CTRL- ALTGR

11. İşlemcinin çalışma hızını gösteren kısaltma aşağıdakilerden hangisidir?

- A) cpu
- B) km/s
- C) usb
- D) mhz

12. Aşağıdakilerden hangisi klavyede bulunmaz?

- A) Scroll lock tuşu
- B) Num lock tuşu
- C) Shift lock tuşu
- D) Caps lock tuşu

13. Aşağıdakilerden hangisi ana bellektir?

- A) Random Access Memory
- B) Disket ve CD
- C) Flash Disk
- D) Harddisk

14. Aşağıdakilerden hangisi kaydedilebilen ancak silinemeyen CD ler için kullanılan kısaltmadır?

- A) CD-RW
- B) CD-ROM
- C) CD-K
- D) CD-R

15.  Yandaki simge, bilgisayarda hangi birimi gösteren simgedir?

- A) BlueTooth
- B) Usb
- C) İnternet bağlantısı
- D) Virüs tarayıcı

16. Silinen dosyalar, hangi klasöre taşınır?
A) Belgelerim
B) Bilgisayarım
C) Geri Dönüşüm Kutusu
D) Masaüstü
17. Dosyanın yan bellek ortamındaki adresini tutan simgelere ne ad verilir?
A) Kısayol
B) Klasör
C) Adres Çubuğu
D) Link
18. Farenin çift tıklama hızı gibi, fare ayarlarında değişiklik yapılabilmesi için hangi yolu izleriz?
A) Başlat – Programlar – Donatılar - Fare
B) Başlat - Ayarlar - Fare
C) Bilgisayarım - Özellikler - Fare
D) Başlat – Ayarlar - Denetim Masası – Fare
19. Windows Gezgini penceresini açmayı sağlayan kısayol tuşu, aşağıdakilerden hangisidir?
A) Başlat-E
B) Başlat-D
C) Başlat-G
D) Başlat-W
20. Paint programının varsayılan dosya uzantısı aşağıdakilerden hangisidir?
A) JPG
B) PNT
C) BMP
D) HTML
21. Bir pencerede ardışık dosyaları seçebilmek için hangi yardımcı tuş kullanılır?
A) Alt Gr
B) Tab
C) Shift
D) Caps Lock
22. Bir pencerede bulunan bütün dosyaları seçmek için aşağıdakilerden hangisi kullanılır?
A) Ctrl - C
B) Ctrl - S
C) Ctrl - V
D) Ctrl - A
23. Yan bellek ortamlarına ulaşmak için, masaüstünde bulunan hangi simge kullanılır?
A) Ağ Komşuları
B) Belgelerim
C) Bilgisayarım
D) Geri Dönüşüm Kutusu

24. Windows'ta Fare – Klavye – Sistem - Program Ekle / Kaldır vb. gibi uygulamaların yer aldığı bölüm aşağıdakilerden hangisidir?

- A) Windows Gezgini
- B) Bilgisayarım simgesi
- C) Geri Dönüşüm Kutusu
- D) Denetim Masası

25. Bir dosyayı sabit diskten tümüyle kaldırmak için kullanılan kısayol tuşu hangisidir?

- A) Shift+Delete
- B) Ctrl+Delete
- C) Delete
- D) Alt+Delete

26.  Yandaki resimlerde görülen işaretin anlamı nedir?

- A) Bu dizine bağlı alt dizinler vardır ve bu dizinler görülmemektedir.
- B) Bu dizine bağlı alt dizinler vardır ve bu dizinler görülmektedir.
- C) Bu dizine bağlı alt dizinler vardır ve bu dizinler silinmiştir.
- D) Bu dizine bağlı alt dizinler yoktur.

27.  Denetim Masası öğesi olan Bölge ve Dil Seçeneklerinden aşağıdakilerden hangisi yapılamaz?

- A) F Klavye düzeni eklenebilir
- B) Tarih görünümü değiştirilebilir
- C) Windows görünüm dili değiştirilebilir
- D) Varsayılan para birimi ayarı yapılabilir

28.  Yandaki simgenin anlamı aşağıdakilerden hangisidir?

- A) Silinmiş klasör
- B) İçinde dosya olan klasör
- C) Kısayol
- D) eclipse internet adresine bağlanmayı sağlayan link

29. Aşağıdakilerden hangisinde Not defteri ve Paint Programlarında hazırlanan dosyaların uzantıları doğru olarak belirtilmiştir?

- A) TXT (Not Defteri), BMP (Paint)
- B) DOC (Not Defteri), TXT (Paint)
- C) DOC (Not Defteri), XLS (Paint)
- D) EXE (Not Defteri), BMP (Paint)

30. Aşağıdakilerden hangisi Görev Çubuğu (Taskbar) üzerinde yapılabilecek bir işlem değildir?

- A) Açık programlar arası geçiş
- B) Kısayol (Shortcut) oluşturma
- C) Dil (Language) değiştirme
- D) Tarih/ Saat (Date/ Time) ayarlama

31. Windows'ta varsayılan belge saklama klasörü aşağıdakilerden hangisidir?

- A) Masaüstü
- B) Denetim Masası
- C) Karşıdan Yüklenenler
- D) Belgelerim

32. Aşağıdakilerden hangisi Windows kurulumundan gelen bir program değildir?

- A) Windows Gezgini
- B) Word
- C) Paint
- D) Wordpad

33. Bilinen dosya uzantılarını gizlemek veya göstermek için, aşağıdakilerden hangisi kullanılır?

- A) Klasör seçenekleri
- B) Dosya seçenekleri
- C) Görünüm seçenekleri
- D) Güvenlik ayarları

34. Bilgisayarın korsan saldırılardan ve virüslerden korunması için Denetim Masası'ndaki hangi program kullanılmalıdır?

- A) Windows Güvenlik Duvarı
- B) Windows Update
- C) Bölge ve Dil Seçenekleri
- D) Program Ekle/Kaldır Ayarları

35. Bir dosya üzerinde aşağıdaki işlemlerden hangisi yapılamaz?

- A) Dosya özellikleri değiştirilebilir
- B) Dosya kopyalanıp, Bilgisayarım simgesine yapıştırılabilir.
- C) Dosya Geri Dönüşüm Kutusuna gönderilmeden silinebilir.
- D) Dosya başka bir klasörün içerisine taşınabilir

36. Bilgisayarın RAM'i, işlemcisi ve kurulu cihazların neler olduğu nereden görülebilir?

- A) Denetim Masası – Görüntü
- B) Denetim Masası – Program Ekle/Kaldır
- C) Denetim Masası – Sistem
- D) Denetim Masası – Yeni Donanım Ekle

37.  /  Yandaki (Hızlı Başlat) simgeleri eklemek veya kaldırmak için aşağıdaki seçeneklerden hangisi kullanılmalıdır?

- A) Masaüstünde sağ tuş – Özellikler
- B) Dosya menüsü – Özellikler
- C) Görev Çubuğu sol tuş – Özellikler
- D) Görev Çubuğu sağ tuş – Araç Çubukları

38. Bir pencerenin araç/durum çubuğu nereden iptal edilir?

- A) Dosya
- B) Düzen
- C) Görünüm
- D) Araçlar

39. Bilgisayara yeni bir kullanıcı eklemek için aşağıdaki bölümlerden hangisi kullanılır?
- A) Programlar
B) Denetim masası
C) Belgelerim
D) Belgeler ve ayarlar (Documents and Settings)
40. Windows'da ALT+TAB tuşunun görevi aşağıdakilerden hangisidir?
- A) Denetim Menüsünü açar.
B) Başlat Menüsünü açar.
C) Çalışan programlar arası geçişi sağlar.
D) Açık olan tüm programları kapatır.
41. Açılan herhangi bir uygulama penceresinin klavyeden kapatılmasını için hangi tuşlar kullanılmaktadır?
- A) Alt + Ctrl
B) Ctrl + Tab
C) Alt + F4
D) Ctrl + Esc
42. Bir dosyanın adını değiştirmek için aşağıdakilerden hangisi kullanılmaz?
- A) Dosya seçilir ve F2 tuşuna basılır
B) Dosya seçilir ve farenin sağ tuşuna basılır
C) Dosya adı, farenin sol tuşu ile arada kısa bir süre bırakılarak iki kez tıklanır
D) Dosya adı, farenin sol tuşu ile iki kez hızlıca tıklanır.
43. Media Player programı, aşağıdakilerden hangisini yapar?
- A) Günlük haber sitelerine bağlanır
B) Müzik ve film dosyalarını oynatır
C) Ses kayıt işlemlerini yapmayı sağlar
D) Media oyun programını başlatır
44. Aşağıdakilerden hangisi aynı türdeki dosyaları bir araya getirir?
- A) Farenin sol tuşu – simgeleri yerleştir – Türe göre
B) Farenin sağ tuşu – özellikler – Türe göre
C) Farenin sağ tuşu – Yeni – Türe göre
D) Farenin sağ tuşu – simgeleri yerleştir – Türe göre
45. Windows işletim sistemi açıldığında bir uygulamanın otomatik olarak çalışabilmesi için o uygulamanın nerede bulunması gerekmektedir?
- A) Başlat – Programlar - Donatılar - Başlangıç
B) Başlat – Başlangıç
C) Başlat – Tüm Programlar – Başlangıç
D) Başlat – Ayarlar
46. Bilgisayarda kayıtlı metin belgelerini bulmak için aşağıdakilerden hangisi kullanılır?
- A) *.doc
B) *.txt
C) *.bmp
D) *.exe

47. Pencere bandını farenin sol tuşu ile çift tıklamak, aşağıdakilerden hangisini yapar?

- A) Aşağı geri getir/Ekranı kapla düğmesi gibi çalışır
- B) Çalışan programı simge durumuna küçültmeyi sağlar
- C) Çalışan programı kapatmayı sağlar
- D) Çalışılan dosyanın adının değiştirilmesini ve kaydedilmesini sağlar

48. Windows yardım ekranını çağırarak için hangi fonksiyon tuşu kullanılır?

- A) F1
- B) F2
- C) F3
- D) F4

49. Dosyalar seçildikten sonra Ctrl tuşu basılı tutularak farenin sol tuşu ile tutulup sürüklenerek bırakılması, aşağıdakilerden hangisini yapmaz?

- A) Başka bir sürücüye kopyalanmasını sağlar
- B) Başka bir klasöre kopyalanmasını sağlar
- C) Aynı klasörde ikinci kopyalarının çıkmasını sağlar
- D) Tutularak bırakılan ortama taşınmalarını sağlar



50. Kısa Yol Araç çubuğunda bulunan yukarıdaki simge hangi komutun kısa yoludur?

- A) Dosya veya klasörü geri dönüşüme göndermeden silme
- B) Dosya veya klasör silme
- C) Dosyayı kesme ve hafızaya alma
- D) Programı kapatma

51. Print Screen tuşu aşağıdakilerden hangisini yapar?

- A) Ekrandaki herşeyin yazıcıya gönderilmesini sağlar
- B) Print Screen programının çalıştırılmasını sağlar
- C) Bloklu alanların kopyasını belleğe almayı sağlar
- D) Ekran görünümünün resmini belleğe kopyalar

52. Gizli dosyaları gizlemek/göstermek için aşağıdaki seçeneklerden hangisini çalıştırmalıyız?

- A) Denetim Masası – Bölge ve Dil Seçenekleri – Diller – Tüm Dosyaları Göster
- B) Denetim Masası – Klasör Seçenekleri – Görünüm
- C) Denetim Masası – Klavye / Hiz – Görünüm
- D) Denetim Masası – Klasör Seçenekleri / Genel

53. Hangisi geri al işleminin kısayol tuşudur?

- A) Ctrl + E
- B) Alt + Z
- C) Shift + Yön tuşları
- D) Ctrl + Z

54. Bir program simge durumuna getirildiğinde aşağıda verilen seçeneklerden hangisi olur?

- A) Program tamamen kapanır
- B) Program geçici olarak kaybolur
- C) Program simge durumunda masaüstüne yerleşir
- D) Program simge durumunda görev çubuğuna yerleşir

55. Windows işletim sisteminde çözünürlüğü “1024x768” olarak değiştirmek için aşağıdaki seçeneklerden hangisi kullanılır?

- A) Başlat\Ayarlar\Denetim Masası\Sistem
- B) Başlat\Ayarlar\Denetim Masası\Görüntü\Görünüm
- C) Başlat\Ayarlar\Denetim Masası\Görüntü\Ayarlar
- D) Başlat\Ayarlar\Denetim Masası\Tarih ve Saat

56. Aşağıdakilerden hangisi bilgisayarın çalışma ve görüntüleme hızını etkiler?

- 1. Disk Birleştirme İşlemi
- 2. Bilgisayarın RAM' i
- 3. Ekran Kartı Özellikleri

- A) 1, 2
- B) 1, 2, 3
- C) 2
- D) 1,3

57. Windows Gezgininde Araç Çubuğundaki  düğmesi ne amaçla kullanılır?

- A) Dosya ve Klasörlerin tümünü seçer.
- B) Dosya ve Klasörleri büyük simge olarak gösterir.
- C) Bir üst Klasöre (seviyeye) çıkar.
- D) Dosya ve Klasörleri özelliklerini gösterir.

58. Seçili dosyaları flash belleğe kopyalamak için aşağıdakilerden hangisi kullanılmaz?

- A) Ctrl+X ve Ctrl+V
- B) Ctrl+C ve Ctrl+V
- C) Farenin sağ tuşu - Gönder
- D) Farenin sol tuşu ile tut, sürükleye, bırak

59. Aşağıdakilerden hangisi Windows'un genel özelliklerindedir?

- A) Görsel bir işletim sistemi olması
- B) Grafik tabanlı bir işletim sistemi olması
- C) Herhangi bir işlemin birden çok yöntemle yapılabilmesi.
- D) Hepsi

60. Aşağıdaki web adreslerinden hangisi bir lisenin web adresi olabilir?

- A) www.anadolu.edu.tr
- B) www.anadolu.gov.tr
- C) www.anadolu.k12.tr
- D) www.anadolu.lis.tr

61. Aşağıdaki mail adreslerinden hangisi hatalıdır?

- A) bilgi@abc.com
- B) bilgi@abc.net
- C) bilgi@com.com
- D) bilgi@com.tr


62. Aşağıdakilerden hangisi bir internet görüntüleyici (browser) program değildir?

- A) Internet Browser
- B) Internet Explorer
- C) Chrome

D) Firefox

63. Windows kurulumunda yüklenen mail gönderme programı, aşağıdakilerden hangisidir?

- A) Power Point
- B) Ağ Komşuları
- C) Outlook Express
- D) Mailbox

64. Internet Explorer programında yer alan  simgesinin anlamı aşağıdakilerden hangisidir?

- A) Sil
- B) Yenile
- C) Özellikler
- D) Durdur

65. Mail adreslerinde kullanılan @ işareti (klavyede Q tuşunun sağ altındadır), aşağıdaki tuş bileşimlerinden hangisi ile yapılır?

- A) Ctrl + Q
- B) Shift + Q
- C) Alt + Q
- D) Alt Gr + Q

WORD



66. Yandaki simge, aşağıdakilerden hangisini yapar?

- A) Paragraf ayarı
- B) İki sütunlu tablo oluşturma
- C) Belgeyi sütunlara ayırma
- D) Yazdırma alanı belirleme



67. Yandaki seçili simgenin anlamı, aşağıdakilerden hangisidir?

- A) Paragraf sola yaslı olarak yazılacaktır
- B) Paragraf ortalanarak olarak yazılacaktır
- C) Paragraf sağa yaslı olarak yazılacaktır
- D) Paragraf iki yana yaslı olarak yazılacaktır



68. Yanda görülen simgelerin görevi aşağıdakilerden hangisidir?

- A) Metin vurgu rengi – Yazı tipi rengi
- B) Yazı tipi rengi – Metin vurgu rengi
- C) Metin vurgu rengi – Altı kırmızı çizgili yazı
- D) Sarı yazı rengi – Kırmızı alt çizgi rengi

69. Herhangi bir blok üzerinde iken blok, Ctrl tuşu ile beraber mouse sol tuşuna basılarak sürüklenirse aşağıdakilerden hangisi gerçekleşir?

- A) Blok kopyalanır
- B) Blok silinir
- C) Blok taşınır

D) Blok kalkar



70. Aracının görevi aşağıdakilerden hangisidir?

- A) Metin kutusu ekler
- B) Bloklı alanın altını çizer
- C) WordArt ekler
- D) Yazı tipi rengini deęiřtirir



71. Yandaki simge hangi amaçla kullanılır?

- A) Satır numaraları ekleme
- B) Satır başlarını işaretleme
- C) Numaralanmış liste oluřturma
- D) İşaretili liste oluřturma

Büyük/küçük harf eşleřtir

72. Yalnızca tam sözcükleri bul Metin bulma işlemindeki ekranda yandaki seçenekler işaretlenmiş ise aşağıdakilerden hangisi doğrudur?

- A) "Ankara" aranırken "Ankaralı" kelimesi de bulunacaktır
- B) "Ankara" aranırken "ankara" kelimesi de bulunacaktır
- C) "Ankara" aranırken sadece "Ankara" bulunacaktır
- D) "Ankara" aranırken "ankaralı" kelimesi de bulunacaktır



73. Nesnelerle çalışırken Gruplandır işleminin seçilmesi, aşağıdakilerden hangisi için yapılır?

- A) Nesneleri tek bir nesne haline getirmek için
- B) Seçili nesne ve paragrafı bir grup haline getirmek için
- C) Gruplandırılan nesneleri birbirinden ayırmak için
- D) Nesnelerin grup grup sınıflandırılabilmesi için

74. Bir dosyayı kaydetmek için kullanılan kısayol tuşu aşağıdakilerden hangisidir?

- A) CTRL + B
- B) CTRL + S
- C) CTRL + V
- D) CTRL + K



75. Yandaki simge aşağıdakilerden hangisi için kullanılır?

- A) Küçük resim ekleme
- B) Dışarıdan bir resim dosyasını ekleme
- C) Şekil nesneleri çizme
- D) Grafik ekleme

76. İmlecın bulunduđu bölümden itibaren, belgenin sonuna kadar seçim işlemi yapan tuş kombinasyonu aşağıdakilerden hangisidir?

- A) Shift – Ctrl – Aşağı ok
- B) Shift – Ctrl – End
- C) Shift – End
- D) Shift – Aşağı ok – End



77. Yandaki cetvel görüntüsü üzerinde bulunan sekmelerin anlamları sırayla aşağıdakilerden hangisidir?

- A) Sağ sekme – Orta sekme – Sol sekme
- B) Hepsi sol sekme
- C) Hepsi sağ sekme
- D) Sol sekme – Orta sekme – Sağ sekme

78. Otomatik olarak İçindekiler tablosu oluşturmak için, aşağıdakilerden hangisi kullanılmalıdır?

- A) Yazı tipleri
- B) Başlık stilleri
- C) Otomatik Tablo
- D) Yer işaretleri

79. Tarih, sayfa numarası, firma adı, kitap adı gibi bazı bilgilerin tüm sayfalarda otomatik olarak çıkmasını sağlamak için aşağıdakilerden hangisi kullanılır?

- A) Üst bilgi – Alt bilgi
- B) Metin Kutusu
- C) Fligran
- D) Açıklama

80. Bul ve Değiştir işleminin kısayol tuşu aşağıdakilerden hangisidir?

- A) Ctrl + F
- B) Ctrl + H
- C) Ctrl + T
- D) Ctrl + D

81. Çok sayfalı bir dökümanın ilk beş sayfasına romen rakamları ile, kalanına ise normal rakamlarla sayfa numarası verilmek isteniyor. Bu durumda aşağıdaki işlemlerden hangisi mutlaka yapılmalıdır?

- A) Paragraf kesmesi ekleme
- B) Sayfa kesmesi ekleme
- C) Bölüm kesmesi ekleme
- D) Satır sonu kesmesi ekleme

82. Bir kuruluşun yönetim şeması hiyerarşik olarak çizilmek isteniyorsa, aşağıdakilerden hangisi kullanılır?

- A) Resim

- B) Küçük resim
- C) Şekiller
- D) SmartArt

83. β Δ ω \in gibi, klavyede olmayan karakterleri yazabilmek için aşağıdakilerden hangisi kullanılır?

- A) Simge
- B) Denklem
- C) Yazı Tipi
- D) Alt Simge ve Üst Simge

84. Metin Kutusu'nun kullanım amacı, aşağıdakilerden hangisidir?

- A) Sayfaya metin yazmak
- B) Sayfaya kutu içinde metin yazmak
- C) Sütunlu yazılar oluşturabilmek
- D) Yazım alanından bağımsız metinler yazmak

85. **AB¹** Yandaki düğme aşağıdakilerden hangisini yapar?

- A) İmlecin bulunduğu yere dipnot numarası ekler ve dipnot girişi yapılmasını sağlar
- B) Seçili alanın sağ üst köşesine kırmızı bir 1 yazar
- C) Kelimeleri 1'den başlayarak numaralandırmayı sağlar
- D) Sayfa numarası vermeyi sağlar

Sayfa: 14 / 20





86. Durum çubuğunda yandaki ifade görüntüleniyorsa, aşağıdakilerden hangisi doğrudur?

- A) Belgenin en fazla 20 sayfa olması gerektiği anlaşılır
- B) 14 sayfalı bir belgede çalışılmaktadır.
- C) 20 sayfalı bir belgenin 14. sayfası görüntülenmektedir.
- D) 20 sayfalı bir belgenin 14. Sayfasından 20. Sayfasına kadar seçim yapılmıştır.

87. Bir paragrafı bloklamak için aşağıdakilerden hangisi yanlıştır?

- A) Paragraf başına tıklanır, paragraf sonuna fare götürülür, shift tuşu basılı tutularak tekrar tıklanır
- B) Paragrafın başında iken Shift + Ctrl + AltOk tuşlarına basılır
- C) Paragraf farenin sol tuşu ile iki kez tıklanır
- D) Paragraf farenin sol tuşu ile üç kez tıklanır

88. Aşağıdaki karşılaştırmalardan hangisi doğrudur?

- A)  = Yazı tipi Rengi
- B)  = Word Art Ekle
- C)  = Gölgelendirme
- D)  = Serbest Döndür



89. Simgesinin görevi aşağıdakilerden hangisidir?

- A) Baskı öncesi ön izleme
- B) Metin arama
- C) Metin bulma ve değiştirme
- D) Görüntüyü yakınlaştırıp uzaklaştırma

90. Kayıtlı olan dosyayı açmak için aşağıdakilerden hangisi kullanılır?

- A) Ctrl + D
- B) Ctrl + A
- C) Ctrl + O
- D) Ctrl + N

91. Yeni bir dosya oluşturmak için hangi tuş kombinasyonu kullanılmalıdır?

- A) Ctrl + O
- B) Ctrl + Y
- C) Ctrl + P
- D) Ctrl + N

92. Aşağıdaki seçeneklerden hangisi tablonun otomatik biçimlendirilmesini sağlar?



93. Oluşturulmuş bir düz yazıyı ortalamak için hangi düğme kullanılmalıdır?



94. Dosyayı şifre vererek kaydetmek için aşağıdakilerden hangisi yapılmalıdır?

- A) Farklı kaydet – Araçlar – Genel Seçenekler
- B) Ekle - Şifre

- C) Dosya – Kaydet – Şifreli kaydet
D) Dosya – Özellikler - Şifre

95. Bir metnin renk, yazı tipi, boyut, italik gibi özelliklerini başka bir metne kopyalamak için aşağıdakilerden hangisi kullanılır?
- A) Kopyala - Yapıştır
B) Yazıtipi - Özellikler
C) Biçim Boyacısı
D) Metin Vurgusu

EXCEL

96. Seçilen hücrelerde kaç tane sayı ve metin olduğunu veren işlev hangisidir?
- A) EĞER
B) BAĞ_DEĞ_SAY
C) BAĞ_DEĞ_DOLU_SAY
D) EĞERSAY
97. C1 hücresine = A1+B1 formülü yazılı iken, C1 hücresi kopyalanıp C2 hücresine yapıştırılırsa, C2 hücresindeki formül aşağıdakilerden hangisi olur?
- A) = A1 + B1
B) = C1 + D1
C) = A1 + B2
D) = A2 + B2

	A	B
1		
2		0,18
3		




98. Şekilde B2 hücresinin sağ üst köşesinde kırmızı bir üçgen görülmektedir. Bunun anlamı aşağıdakilerden hangisidir?
- A) Hücreye açıklama girilmiştir
B) Hücrede bulunan değer yanlıştır
C) Hücrede bulunan formül yanlıştır
D) Önemli bir hücre olduğu için kırmızı ile işaretlenmiştir
99. Aşağıdakilerden hangisi hücreye girilen bilginin yerleştirilmesini sağlamaz?
- A) Enter
B) Yön tuşları
C) Formül çubuğundaki onay düğmesi
D) Esc
100. Excel sayfaları arasında geçiş yapmayı sağlayan kısayol aşağıdakilerden hangisidir?
- A) PageUp - PageDown
B) Ctrl+PageUp – Ctrl+PageDown
C) Ctrl+SolOk – Ctrl+SağOk
D) Alt+SolOk – Alt+SağOk

101. Excel programı hangi yazılım kategorisine girer?
- A) Kelime işlemci

- B) Tablo / Grafik
C) Ticari program
D) Eğitim programı

102. Hücreyi finansal sayı olarak biçimlendiren komut düğmesi aşağıdakilerden hangisidir?

- A)  B)  C)  D) 

103.    Yandaki simgeler, aşağıdaki seçeneklerden hangisinde doğru olarak verilmiştir.?

- A) Birleştir ve ortala – Ondalık arttır ve azalt – Metin yaz
B) Hücreleri birleştir – Virgül koy ve kaldır – Yönlendirme
C) Tabloyu böl – Ondalık arttır ve azalt – Metin yaz
D) Birleştir ve ortala – Ondalık arttır ve azalt - Yönlendirme

104.

	A	B	C	D
1	12	32	45	26
2	23	11	22	15

 Yandaki tabloya göre =TOPLA(A1;B2) fonksiyonu ile elde edilecek değer, aşağıdakilerden hangisidir?

- A) 78
B) 46
C) 23
D) 12

105. #DEĞER! Hatasının anlamı aşağıdakilerden hangisidir?

- A) Çarpma yapılırken metin içerikli hücre kullanılmıştır
B) Formüle eksik ya da fazla parametre girilmiştir.
C) Bir sayının sıfıra bölümünün tanımsızlığı oluşmuştur.
D) Formül sonucu oluşan değer hücreye sığmamıştır.

106. Hücreye girilen sayısal ifade bu alana sığmamışsa bu hücrenin ekrandaki görüntüsü aşağıdaki maddelerden hangisinde doğru olarak verilmiştir?

- A) Sayıların sığmayan kısmı görünmez
B) ##### ifadesi görünür
C) #DEĞER! Hatası görüntülenir
D) Hücrenin taban rengi kırmızı olur

107. Excel çalışma sayfasında Ctrl+End hangi işlemi gerçekleştirir?

- A) Tanımlı en son satır ve sütuna gider
B) A1 Hücresine gider
C) Sayfanın en alt en sağ hücresine gider
D) Satır sonuna kadar seçim yapar

	A	B
1	ankara	1
2	çankaya	2
3	ilçe	3
4	milli	4
5	eğitim	5

108.

Yandaki şekilde seçili durumdaki hücre adreslerini aşağıdaki maddelerden hangisinde doğru olarak verilmiştir.

- A) A1;B5
 B) A1:B5
 C) A1-B5 aralığı
 D) A1+B5 aralığı

109. C8 hücresini sabit hücre olarak ifade eden seçenek aşağıdakilerden hangisidir?

- A) \$8\$C
 B) \$C\$8
 C) *C*8
 D) *8*C

110. Bir formülde ardışık hücreleri göstermek için, ayrı hücreleri göstermek için kullanılır.

Yukarıdaki boşluklara sırayla aşağıdakilerden hangisinin gelmesi gereklidir?

- A) Noktalı virgül – İki nokta üst üste
 B) İki nokta üst üste - Virgül
 C) İki nokta üst üste – Noktalı virgül
 D) Virgül - İki nokta üst üste

111. Birden fazla hücredeki değerleri birleştirmek için aşağıdaki karakterlerden hangisi kullanılır?

- A) # B) ? C) \$ D) &

10	çankaya
----	---------

112. Yandaki şekilde görülen çankaya kelimesi hücreye kaç derece eğimle yazılmıştır?

- A) +90
 B) -90
 C) -45
 D) +45

113. Seçili bir tablonun en sol sütununda bir değeri arayarak, bulursa istenilen sütundaki karşılığını döndüren formül aşağıdakilerden hangisidir?

- A) DÜŞEYARA
 B) YATAYARA
 C) ARA
 D) VSEÇSAY

114. Aşağıdakilerden hangisi metin fonksiyonudur?

- A) ORTALAMA
 B) MAK
 C) PARÇAAL
 D) DÜŞEYARA

115. =BÜYÜK(A1:A10;2) komutu aşağıdakilerden hangisini yapar?

- A) A1 ile A10 hücreleri arasındaki sayıların en büyük olanını getirir
B) A1 ile A10 hücreleri arasındaki sayıların ikinci en büyük olanını getirir
C) A1 ve A10 hücrelerini karşılaştırır. İkisinden hangisi büyükse onu getirir.
D) A1 ile A10 hücreleri arasındaki sayıların en büyük iki tanesini getirir

116. Aşağıdakilerden hangisi A5 hücresindeki sayının %25'ini hesaplayan işlem değildir?

- A) =(A5*25)/100
B) =A5*25/100
C) =A5*25%
D) =YÜZDE(A5;25)

117. B2 hücresinde 100, B4 hücresinde 200, B6 hücresinde 300 rakamlarının ortalamasını yanlış hesaplayan formül aşağıdakilerden hangisidir?

- A) =TOPLA(B2;B4;B6)/BAĞ_DEĞ_SAY(B2;B4;B6)
B) =B2+B4+B6 / 3
C) =(B2+B4+B6)/3
D) =ORTALAMA(B2;B4;B6)

118. Yandaki tabloda 2007 yılındaki kârı veren D3 hücresindeki formül aşağıdakilerden hangisidir?

- A) CIKAR=B3-C3
B) =B3-C3
C) B3-C3
D) =CIKAR(B3-C3)

	A	B	C	D
1	YIL	GELİR	GİDER	KÂR
2	2006	200	300	
3	2007	400	100	
4	2008	700	500	
5	2009	250	150	
6	TOPL.			

119. =Uzunluk("Çankaya İlçe Milli Eğitim") fonksiyonunun sonucu hangisidir?

- A) Formül Hata Verir
B) 4
C) 22
D) 25

120. =TAMSAYI(7/2) fonksiyonu sonucunda hangi değer üretilir?

- A) 3
B) 3,5
C) 7,2
D) 72

KASIM İŞL CEVAPLARI

1	A
2	C
3	D

47	A	94	A
48	A	95	C
49	D	96	C

4	C
5	D
6	A
7	C
8	D
9	B
10	B
11	D
12	C
13	A
14	D
15	A
16	C
17	A
18	D
19	A
20	C
21	C
22	D
23	C
24	D
25	A
26	A
27	C
28	C
29	A
30	B
31	D
32	B
33	A

50	B	97	D
51	D	98	A
52	B	99	D
53	D	100	B
54	D	101	B
55	C	102	B
56	B	103	D
57	C	104	C
58	A	105	A
59	D	106	B
60	C	107	A
61	D	108	B
62	A	109	B
63	C	110	C
64	D	111	D
65	D	112	D
66	C	113	A
67	D	114	C
68	A	115	B
69	A	116	D
70	C	117	B
71	D	118	B
72	C	119	D
73	A	120	A
74	B		
75	C		
76	B		
77	D		
78	B		
79	A		

34	A
35	B
36	C
37	D
38	C
39	B
40	C
41	C
42	D
43	B
44	D
45	C
46	B

80	B
81	C
82	D
83	A
84	D
85	A
86	C
87	C
88	C
89	A
90	C
91	D
92	A
93	D

AYDIN AKADEMİ