

BİLGİSAYARA GİRİŞ

- Bir bilgisayar sisteminde aşağıdaki programlardan hangisinin olması zorunludur?

A) Programlama Dili
B) İşletim Sistemi
C) Kelime İşlemci
D) Veri Tabanı Programı
- İnternete erişim sağlamak için aşağıdakilerden hangisi kesinlikle bulunmalıdır?

A) Grafik Kartı
B) Ses Kartı
C) USB Giriş
D) Modem
- Aşağıdaki açıklamalardan hangisi yanlıştır?

A) Topsuz mouse'lara optik mouse denir.
B) Yazıcının veri kablosu USB veya LPT olarak iki çeşittir.
C) Flash Disk, kalem boyutunda taşınabilir bellektir.
D) LCD ve Flat terimleri klavye ile ilgilidir.
- Bilgilerin manyetik ortamda saklandığı yere ad verilir?

A) Eprom
B) Harddisk
C) Dosya
D) Bellek
- Aşağıdakilerden hangisinin bilgiye erişim hızı diğerlerinden yüksektir?

A) Slot
B) FDD
C) RAM
D) Flash – Disk
- Aşağıdakilerden hangisi doğrudan çalışabilir bir dosya türüdür?

A) Belge. BAT
B) Belge. XLS
C) Belge. BMP

D) Belge. DOC

7. Birden fazla bilgisayar arasında telefon hattı aracılığı ile iletişim sağlayan cihaza ne ad verilir?
A) Printer
B) Modem
C) Plotter
D) Scanner
8. Aşağıdakilerden hangisi ekran kartıdır?
A) ALU
B) AGP
C) AnaKart
D) Cpu
9. Aşağıdakilerden hangisi Multi Media donanım parçalarından değildir?
A) RAM
B) Ses Kartı
C) Mikrofon
D) Hoparlör
10. I. Klavye üzerindeki ikincil karakterlerin kullanılmasını sağlar
II. Klavye üzerindeki üçüncül karakterlerin kullanılmasını sağlar
Yukarıda açıklanan tuş ikilisi aşağıdakilerden hangisidir?
A) NUM LOCK - CAPS LOCK
B) SHIFT- ALT GR
C) SHIFT- HOME
D) CTRL- ALTGR
11. Ekrandaki en küçük noktaya ne ad verilir?
A) GRAFIK
B) PIXEL
C) BYTE
D) MHZ
12. Klavyede aşağıdakilerden hangisi bulunmaz?
A) é işareti

- B) § işareti
- C) # işareti
- D) ~ işareti

13. Aşağıdakilerden hangisi geçici bellektir?

- A) RAM
- B) Disket ve CD
- C) Flash Disk
- D) Harddisk

14. Aşağıdakilerden hangisi kaydedilebilen ancak silinemeyen CD ler için kullanılan kısaltmadır?

- A) CD-RW
- B) CD-ROM
- C) CD-K
- D) CD-R

15. Aşağıdakilerden hangisi monitörler için kullanılmaz?

- A) inç
- B) wide
- C) Text
- D) LCD

WINDOWS İŞLETİM SİSTEMİ VE BELLEK HİZMET PROGRAMI

16. Geri dönüşüm kutusunda bulunan herhangi bir dosyayı silindiği yere geri almak için hangisi kullanılır?

- A) Dosya Seçilir-Sağ tuş - Geri yükle
- B) Dosya Seçilir –Görünüm - Geri Yükle
- C) Dosya Menüsü – Gönder
- D) Dosya Seçilir - Sağ tuş – Gönder

17. Klavye ayarlarını değiştirmek için izlenmesi gereken yol aşağıdakilerden hangisidir?

- A)Başlat-Programlar-Ayarlar-Klavye
- B) Belgelerim- Denetim Masası – Klavye
- C) Başlat-Ayarlar- Denetim Masası - Klavye
- D) Bilgisayarım-Ayarlar-Klavye

18. Farenin çift tıklama hızı gibi, fare ayarlarında değişiklik yapılabilmesi için hangi yolu izleriz?
- A) Başlat – Programlar – Donatılar - Fare
B) Başlat - Ayarlar - Fare
C) Bilgisayarım - Özellikler - Fare
D) Başlat – Ayarlar - Denetim Masası –Fare
19. Windows ortamında, kayıtlı herhangi bir dosyayı bulmak için aşağıdakilerden hangisi kullanılmalıdır?
(Windows XP/Windows 7)
- A) Başlat-Ayarlar-Ara/Programları ve dosyaları ara
B) Başlat-Ara-Tüm Dosya ve Klasörleri/Programları ve dosyaları ara
C) Başlat-Programlar-Ara/Programları ve dosyaları ara
D) Başlat -Programlar- Dosya ve Klasörler/Programları ve dosyaları ara
20. Paint programındaki bir resmi masa üstüne arka plan olarak ayarlamak için aşağıdakilerden hangisi kullanılmalıdır?
(Windows XP/Windows 7)
- A) Dosya – Gönder - Masa üstü / Paint Düğmesi - Masaüstü arka planı olarak ayarla
B) Düzen - Yapıştır - Masa üstü / Paint Düğmesi - Masaüstü arka planı olarak ayarla
C) Düzen - Arka Plan Olarak Ayarla / Paint Düğmesi - Masaüstü arka planı olarak ayarla
D) Dosya - Arka Plan Olarak Ayarla / Paint Düğmesi - Masaüstü arka planı olarak ayarla
21. Bir pencerede sıralı birden çok dosyayı seçebilmek için hangi yardımcı tuş kullanılır?
- A) Alt Gr
B) Tab
C) Shift
D) Caps Lock
22. Bir pencerede bulunan bütün dosyaları seçili hâle getirmek için aşağıdakilerden hangisi kullanılır?
- A) Dosya-Tümünü Seç
B) Düzenleme - Tümünü Seç

- C) Görünüm- Tümünü Seç
D) Sağ Tuş- Tümünü Seç

23. Windows masaüstünde yer alan ve çift tıklandığında ilişkili olduğu uygulamayı başlatan simgelere ne denir?

- A) Kısayol
B) Masaüstü
C) Görev çubuğu
D) Kanal çubuğu

24. Windows'ta Fare – Klavye – Sistem - Program Ekle / Kaldır vb. gibi uygulamaların yer aldığı bölüm aşağıdakilerden hangisidir?

- A) Windows Gezgini
B) Bilgisayarım simgesi
C) Geri Dönüşüm Kutusu
D) Denetim Masası

25. Bir dosyayı sabit diskten tümüyle kaldırmak için kullanılan kısayol tuşu hangisidir?

- A) Shift+Delete
B) Ctrl+Delete
C) Delete
D) Alt+Delete



Yandaki resimlerde görülen işaretin anlamı nedir?

(Windows XP/Windows 7)

- A) Bu dizine bağlı alt dizinler vardır ve bu dizinler görülmemektedir.
B) Bu dizine bağlı alt dizinler vardır ve bu dizinler görülmektedir.
C) Bu dizine bağlı alt dizinler vardır ve bu dizinler silinmiştir.
D) Bu dizine bağlı alt dizinler yoktur.



Bölge ve Dil
Seçenekleri /



Bölge ve Dil

27. Yandaki Denetim Masası öğesi olan Bölge ve Dil Seçenekleri ne işe yarar?

(Windows XP/Windows 7)

- A) Bilgisayarımızın para birimi, saat – tarih biçimi gibi özelliklerini ayarlayabiliriz.
B) Bilgisayarımızın ekran renklerini ayarlayabiliriz
C) Bilgisayarımızın Görüntü kalitesini ayarlayabiliriz
D) İnternet'e bağlanabiliriz



Pictures

28. Yandaki düğmenin anlamı aşağıdakilerden hangisidir?

- A) Klasör Seçenekleri
B) Görünümler
C) Klasör
D) Tam ekran

29. Aşağıdakilerden hangisinde Not defteri ve Paint Programlarında hazırlanan dosyaların uzantıları doğru olarak belirtilmiştir?

- A) TXT (Not Defteri), BMP (Paint)
B) DOC (Not Defteri), TXT (Paint)
C) DOC (Not Defteri), XLS (Paint)
D) EXE (Not Defteri), BMP (Paint)

30. Aşağıdakilerden hangisi Görev Çubuğu (Taskbar) üzerinde yapılabilecek bir işlem değildir?

- A) Açık programlar arası geçiş
B) Kısayol (Shortcut) oluşturma
C) Dil (Language) değiştirme
D) Tarih/ Saat (Date/ Time) ayarlama

31. Windows Gezgini'nde (Windows Explorer), nesnelerin disk üzerinde kapladıkları alana göre sıralanabilmesi için aşağıdakilerden hangisi kullanılır?

- A) Görünüm-Simgeleri yerleştir-Tarihe göre (View/ Arrange Icons/ Date)

- B) Görünüm-Küçük simgeler (View/ Small Icons)
C) Görünüm-Simgeleri yerleştir-Boyuta göre (View/ Arrange Icons/ Size)
D) Görünüm-Simgeleri yerleştir-Ada göre (View/ Arrange Icons/ Name)

32. Windows'tan Komut İstemi'ne aşağıdakilerden hangisi ile geçilir?

- A) Başlat – Tüm Programlar – Windows Gezgini
B) Başlat – Tüm Programlar – Donatılar- Komut İstemi
C) Başlat – Tüm Programlar – Komut İstemi
D) Bilgisayarım – Denetim Masası – Komut İstemi

33. Ekran Koruyucu hangi seçenek ile ayarlanır?

- A) Denetim Masası - Kişiselleştirme
B) Denetim Masası - Bölge ve Dil
C) Denetim Masası - Aygıt Yöneticisi
D) Denetim Masası - Sistem

34. Aşağıdaki seçeneklerden hangisi Windows'un renk ayarlarını değiştirmek için kullanılır?

(Windows XP/Windows 7)

- A) Denetim Masası – Görüntü – Artalan – Ekran Koruyucu / Denetim Masası – Görüntü – Başlarken
B) Denetim Masası – Görüntü – Ekran Koruyucu / Denetim Masası – Görüntü – Bölge ve Dil
C) Denetim Masası – Görüntü – Artalan / Denetim Masası – Görüntü – Kişiselleştirme
D) Denetim Masası – Görüntü – Görünüm / Denetim Masası – Görüntü – Rengi Ayarla

35. Bir dosya üzerinde aşağıdaki işlemlerden hangisi yapılamaz?

- A) Dosya kopyalanır
B) Dosya Bilgisayarım simgesine kopyalanır.
C) Dosya silinebilir.
D) Dosya başka bir klasörün içerisine taşınabilir

36. Bilgisayarın RAM'i , işlemcisi ve kurulu cihazların neler olduğu nereden görülebilir?
- A) Denetim Masası– Görüntü
 - B) Denetim Masası–Program Ekle/Kaldır
 - C) Denetim Masası – Sistem ve Güvenlik
 - D) Denetim Masası – Yeni Donanım Ekle

37.  /  Yandaki (Hızlı Başlat) simgeleri eklemek veya kaldırmak için aşağıdaki seçeneklerden hangisi kullanılmalıdır?

- (Windows XP/Windows 7)
- A) Masaüstünde sağ tuş – Özellikler
 - B) Dosya menüsü – Özellikler
 - C) Görev Çubuğu sol tuş – Özellikler
 - D) Görev Çubuğu sağ tuş – Araç Çubukları

38. Bir pencerenin araç/durum çubuğu nereden iptal edilir?

- A) Dosya
- B) Düzen
- C) Görünüm
- D) Araçlar

39. Windows da yeni bir yazıcı ekleme işlemi nereden yapılır?

- A) Başlat – Ayarlar – Yazıcılar ve Fakslar– Yazıcı ekle
- B) Denetim masası – Program Ekle/Kaldır– Yazıcı Ekle
- C) Başlat – Programlar –Yazıcılar – Yazıcı ekle
- D) Başlat – Programlar – Donatılar – Yazıcı ekle

40. Windows'da ALT+TAB tuşunun görevi aşağıdakilerden hangisidir?

- A) Denetim Menüsünü açar.
- B) Başlat Menüsünü açar.
- C) Çalışan programlar arası geçişi sağlar.
- D) Açık olan tüm programları kapatır.





41. Açılan herhangi bir uygulama penceresinin klavyeden kapatılmasını için hangi tuşlar kullanılmalıdır?

- A) Alt + Ctrl
- B) Ctrl + Tab

- C) Alt + F4
D) Ctrl + Esc

42. Biçimlendirme işlemi yapılmış bir manyetik ortam için aşağıdakilerden hangisi söylenemez?
- A) İçindeki tüm bilgiler silinmiştir.
B) Sectorler oluşturulmuştur.
C) Windows açılış için gerekli dosyalar yüklenmiştir.
D) Trackler oluşturulmuştur.
43. Hard disk'in etiket ismini nasıl değiştirebiliriz?
- A) Bilgisayarım – Denetim Masası – Sistem – Genel
B) Bilgisayarım Klasöründe sürücü üzerinde sağ tıklanır–Özellikler–Genel
C) Bilgisayarım Klasöründe sürücü üzerinde sol tıklanır – Özellikler – Genel
D) Bilgisayarım – Denetim Masası - Özellikler – Genel
44. Aşağıdakilerden hangisi aynı türdeki dosyaları bir araya getirir.
- A) Farenin sol tuşu – Simgeleri Diz – Tür
B) Farenin sağ tuşu – özellikler – Tür
C) Farenin sağ tuşu – Görünüm – Tür
D) Farenin sağ tuşu – Sıralama Ölçütü – Tür
45. Windows işletim sistemi açıldığında bir uygulamanın otomatik olarak çalışabilmesi için o uygulamanın nerede bulunması gerekmektedir?
- A) Başlat – Tüm Programlar- Donatılar - Başlangıç
B) Başlat – Başlangıç
C) Başlat – Tüm Programlar – Başlangıç
D) Başlat – Ayarlar
46. 2.Karakteri “e” olan çalıştırılabilir program dosyalarını aramak için arama bölümüne aşağıdakilerden hangisi yazılmalıdır?
- A) *e.com
B) ??e*.com
C) ?e*.exe
D) ?e*.dll

47. Aşağıdakilerden hangisi rakamları arttırıp azaltmak için kullanılır?

- A) 
- B) 
- C) 
- D) 

48.

1. 
2. 
3. 
4. 

Yukarıdaki simgelerden hangisi kısa yolu temsil eder?

- A) 1
- B) 2
- C) 3
- D) 4

49. Silinmesini istediğiniz dosyayı Geri Dönüşüm Kutusuna göndermeden silmenin yolu hangisidir?

- A) CTRL + DELETE
- B) SHIFT + DELETE
- C) SHIFT + ENTER
- D) CTRL + INS




50. Kısa Yol Araç çubuğunda bulunan yukarıdaki simge hangi komutun kısa yoludur?

- A) Dosya veya klasörü geri dönüşüme göndermeden silme
- B) Dosya veya klasör silme
- C) Dosyayı kesme ve hafızaya alma
- D) Kelime silme

51. Windows'ta Film veya mzik dosyaları hangi programla alıřtırır?
A) Windows Media Player
B) Ses Denetimi
C) Ses Kaydedicisi
D) Ses Deęiřtirici
52. Dosyaları gizlemek / gstermek iin ařaęıdaki seeneklerden hangisini alıřtırmalıyız?
A) Denetim Masası –Blge ve Dil Seenekleri –Diller–Tm Dosyaları Gster
B) Denetim Masası – Klasr Seenekleri– Grnm
C) Denetim Masası – Klavye / Hız–Grnm
D) Denetim Masası – Klasr Seenekleri / Genel
53. Hangisi geri al iřleminin kısayol tuřudur?
A) Ctrl + E
B) Alt + Z
C) Shift + Yn tuřları
D) Ctrl + Z
54. Bir program simge durumuna getirildięinde ařaęıda verilen seeneklerden hangisi olur?
A) Program tamamen kapanır
B) Program geici olarak kaybolur
C) Program simge durumunda masastne yerleřir
D) Program simge durumunda grev ubuęuna yerleřir
55. Windows iřletim sisteminde znrlę “1024x768” olarak deęiřtirmek iin ařaęıdaki seeneklerden hangisi kullanılır?
A) Bařlat\Ayarlar\Denetim Masası\Sistem
B) Bařlat\Ayarlar\Denetim Masası\Grnt\Grnm
C) Bařlat\Ayarlar\Denetim Masası\Grnt\Ayarlar
D) Bařlat\Ayarlar\Denetim Masası\Tarih ve Saat
56. Ařaęıdakilerden hangisi bilgisayarın iřlem hızını etkiler?
1. Disk Birleřtirme iřlemi
2. Bilgisayarın RAM' i
3. Ekran Kartı zellikleri
A) 1, 2
B) 1, 2, 3

- C) 2
D) 1,3



57. Windows Gezginiinde Araç Çubuğundaki  düğmesi ne amaçla kullanılır?
A) Dosya ve Klasörlerin tümünü seçer.
B) Dosya ve Klasörleri büyük simge olarak gösterir.
C) Bir üst Klasöre (seviyeye) çıkar.
D) Dosya ve Klasörleri özelliklerini gösterir.
58. Windows ortamında bir klasörün görünümünü değiştirmek için aşağıdakilerden hangisi kullanılır?
A) Dosya/Değiştir
B) Düzen/Özellikler
C) Dosya/Özellikler
D) Görünüm/Özelleştir
59. Aşağıdakilerden hangisi Windows'un genel özelliklerindedir?
A) Görsel bir işletim sistemi olması
B) Grafik tabanlı bir işletim sistemi olması
C) Herhangi bir işlemin birden çok yöntemle yapılabilmesi.
D) Hepsi
60. Aşağıdakilerden hangisi aksi belirtilmedikçe görev çubuğu üzerinde bulunmaz?
A) Başlat menüsü düğmesi
B) Açık olan programların ismi
C) Denetim masası simgeleri
D) Tarih/saat göstergesi
61. Paint programı aşağıdaki menülerden hangisinde bulunur?
A) Başlat - Programlar-Donatılar – Sistem Araçları
B) Başlat – Programlar – Donatılar
C) Başlat-Belgeler
D) Başlat - Belgeler-Donatılar
62. Bir Dosya veya klasöre ait konum, içerik ve öz niteliği ile ilgili bilgileri öğrenebilmek için hangisi kullanılmalıdır?
A) Sağ tuş-Özellikler
B) Dosya Menüsü-Yeni - özellikler

- C) Sağ tuş-araştırılıyor
- D) Sağ tuş-Aç

63. Bir pencerede bulunan sıralı olmayan birden çok dosyayı seçebilmek için hangi yardımcı tuş kullanılır?

- A) Alt
- B) Ctrl
- C) Shift
- D) CapsLock

64. Bilgisayarda donanım ayarlarının yapılabilmesi için aşağıdaki menülerden hangisi kullanılmalıdır?

- A) Başlat-Ayarlar-Denetim Masası / Başlat-Denetim Masası
- B) Başlat-Programlar-Denetim Masası / Başlat-Programlar-Denetim Masası
- C) Bilgisayarım -Denetim Masası / Bilgisayarım -Denetim Masası
- D) Bilgisayarım- Programlar-Denetim Masası / Bilgisayarım- Programlar-Denetim Masası



65. Yandaki buton hangi işlemi yapar?

- A) Yeni Klasör Oluşturur
- B) Bir alt seviyeye geçer
- C) Dosya adlarını görüntüler
- D) Klasör özelliklerini görüntüler

WORD


66. Bir tablo üzerinde aşağıdakilerden hangisi yapılamaz?

- A) Tabloyu metne çevirme
- B) Hücre yükseklik ve genişlik tanımlama
- C) Hücre biçimleme
- D) Formül kullanılmaz

67. Ekle / Resim seçeneği ile aşağıdakilerden hangisi yapılamaz?

- A) Belgeye manyetik ortamdan resim ekler
- B) Belgeye grafik ekler
- C) Belgeye tarayıcıdan resim ekler
- D) Belgeye klavyeden resim ekler







68. Yanda görülen şekil aşağıdakilerden hangisini gerçekleştirir?
- A) Satır Ekler
B) Tablo Ve Kenarlıklar
C) Tablo Ekler
D) Baskı ön izleme
69. Herhangi bir blok üzerinde iken blok, Ctrl tuşu ile beraber mouse sol tuşuna basılarak sürüklenirse aşağıdakilerden hangisi gerçekleşir?
- A) Blok kopyalanır
B) Blok silinir
C) Blok taşınır
D) Blok kalkar
70.  Aracının görevi aşağıdakilerden hangisidir?
- A) Metin kutusu ekler
B) Bloklı alanın altını çizer
C) WordArt ekler
D) Yazı tipi rengini değiştirir
71. Adres mektup birleştirme işleminde aşağıdakilerden hangisi doğrudur?
- A) Veri tabanı olarak Excel kullanılamaz.
B) Veri alma işleminde koşul kullanılamaz.
C) Veriler word tablosundan alınamaz.
D) Alınan veriler koşullu biçim içerebilir.
72. Kullanıcı tanımlı şablon dosyalarının uzantısı aşağıdakilerden hangisidir?
- A) .TMP
B) .DOT
C) .TMM
D) .DOC
73. Giriş / Düzenleme / Ara / Git seçeneği ile aşağıdakilerden hangisine gidilemez?
- A) Sayfa
B) Satır
C) Dipnot

D) Üst-Alt bilgi

74. Bir dosyayı kaydetmek için kullanılan kısayol tuşu aşağıdakilerden hangisidir?

- A) CTRL + B
- B) CTRL + S**
- C) CTRL + V
- D) CTRL + Y

75. Oluşturulmuş bir tabloya hazır otomatik biçimlerden birini vermek için hangisi kullanılır?

- A) **
- B) 
- C) 
- D) 

76. İmlecin bulunduğu bölümden itibaren, belgenin sonuna kadar seçim işlemi yapan tuş kombinasyonu aşağıdakilerden hangisidir?


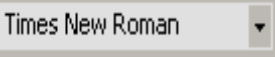

- A) Shift – Ctrl – Aşağı ok
- B) Shift – Ctrl – End**
- C) Shift – End
- D) Shift – Aşağı ok – End

77. Aşağıdakilerden hangisi dosya veya klasörlerin kopyalanması için geçerli bir yöntem değildir?

- A) Sağ tuş-Kopyala
- B) Düzen menüsü- Kopyala**
- C) Ctrl + C
- D) Simgeyi Ctrl + Fare ile Sürükle bırak

78. Windows gezgini penceresini açmak için aşağıdakilerden hangisi kullanılmalıdır?

- A) Başlat-sol tuş-Windows gezgini
- B) Başlat-Belgeler- Windows gezgini
- C) Başlat-Programlar- Donatılar – Windows Gezgini**
- D) Bilgisayarım-Sağ tuş- Windows Gezgini

79. Aşağıdakilerden hangisiyle internette bulunan www.cankaya.gov.tr adresine ulaşmak için kullanılacak yöntemlerden biri **değildir**?
- A) Metni Blokla / Görünüm / Köprü
B) Metni Blokla / Sağ Tuş / Köprü
C) Metni Blokla / Ctrl + Alt + K
D) Metni Blokla / Ekle / Köprü
80. Belge içerisindeki “Ankara” kelimesinin “Çankaya” olarak değiştirmek için uygulanacak yöntem aşağıdakilerden hangisidir?
- A) Ctrl + F
B) Ctrl + H
C) Ctrl + T
D) Ctrl + D
81. H₂CO₄ metnine H₂CO₄ biçimini verebilmek için hangi komut kullanılır?
- A) Sayfa Düzeni Sekmesi / Sayfa Yapısı Paneli
B) Giriş Sekmesi / Yazı Tipi Paneli
C) Tasarım Sekmesi / Metin Yönü
D) Giriş Sekmesi / Stiller Paneli
82. Aşağıdaki maddelerden hangisi yazı tipi boyutu kutusudur?
- A) 
B) 
C) 
D) %100 font size dropdown" data-bbox="131 642 244 677"/>
83. F4 kısa yol tuşunun görevi aşağıdakilerden hangisidir?
- A) Son yapılan işlemi geri alır.
B) Kopyalama işlemi yapar.
C) Blokları siler
D) Son yapılan işlemi yineler
84. Belirtilen metni veya ifadeyi bulmak için kullanılan kısayol tuşu hangisidir?
- A) Ctrl+F
B) Ctrl+G
C) Ctrl+A

D) Ctrl+D

85. Belge içinde seçim işlemleri yaparken aşağıdakilerden hangisi kullanılamaz?

- A) Shift+ Ctrl+End
- B) Shift + Aşağı ok
- C) Shift+tab+sol ok
- D) Ctrl + shift + home





86. Birden fazla belge ile çalışırken tüm belgeleri ekranda görebilmek için aşağıdakilerden hangisi yapılmalıdır?

- A) Sayfa Düzeni Sekmesi kullanılır
- B) Dosya menüsü kullanılmalıdır
- C) Görünüm Sekmesi kullanılmalıdır
- D) Gözden Geçir Sekmesi kullanılmalıdır

87. Aşağıdakilerden hangisi word için hatalı bir ifadedir?

- A) Hatalı yazılan bir ifadenin doğrusu ile değiştirilmesi
- B) Belge içine otomatik metin yerleştirilmesi
- C) Belgeye klavyede olmayan bir simgenin yerleştirilmesi
- D) Word tablosu içinde bir formülü etkileyen hücrelerin gösterilmesi

88. Aşağıdaki karşılaştırmalardan hangisi doğrudur?

- A)  = Yazı tipi Rengi
- B)  = Word Art Ekle
- C)  = Gölgeleme
- D)  = Serbest Döndür

89.  Simgesinin görevi aşağıdakilerden hangisidir?

- A) Aktif dökümanı yazıcıdan alır.
- B) Aktif dökümanı bellekten siler
- C) Aktif dökümanı disk veya diskete kaydeder
- D) Aktif dökümanı belleğe yükler

90. Kayıtlı olan dosyayı açmak için aşağıdakilerden hangisi kullanılır?

A) Dosya Menüsü – Aç

B) Düzen Menüsü – Aç

C) Biçimlendirme Araç Çubuğundan – 

D) Hiçbiri

91. Yeni bir dosya oluşturmak için hangi tuş kombinasyonu kullanılmalıdır?

A) Ctrl + O

B) Ctrl + Y

C) Ctrl + N

D) Ctrl + P

92. Aşağıdaki seçeneklerden hangisi satır yüksekliklerini eşit olarak ayarlar?

A) 

B) 

C) 

D) 

93. Oluşturulmuş bir düz yazıyı sütunlara bölmek için hangi düğme kullanılmalıdır?

A) 

B) 

C) 

D) 

94. Açık olan belgeler arasında geçiş yapmak için kullanılan menü hangisidir?

A) Görünüm Sekmesi

B) Sayfa Düzeni Sekmesi

- C) Ekle Sekmesi
- D) Gözden Geçir Sekmesi

95. Aşağıdaki dosya uzantılarından hangisi Word programının temsil eder?

- A) DOCX
- B) XLSX
- C) EXE
- D) BMP

EXCEL

96. Microsoft Excel uygulamasını başlatmanın yolu aşağıdakilerden hangisidir?

- A) Başlat – Tüm Programlar
- B) Başlat –Ayarlar
- C) Başlat – Programlar – Donatılar
- D) Başlat – Ayarlar- Denetim Masası

97. Dosya - Baskı önizleme komutunun görevi nedir?

- A) Dosyayı yazdırır
- B) Dosyayı yazıcıya göndermeden önce son halini ekrana yansıtır
- C) Grafik Çizer
- D) Dosyayı siler

98. Aşağıdaki seçeneklerden hangisinde hücre adresi doğru olarak yazılmıştır?

- A) A1
- B) AB
- C) 1A
- D) A

99. Aşağıdakilerden hangisi hücreye girilen bilginin yerleştirilmesini sağlamaz?

- A) Enter
- B) Yön tuşları
- C) Formül çubuğundaki onay düğmesi
- D) Esc

100. Sayfa Düzeni Sekmesi / Sayfa Yapısı Paneli ne işe yarar?

- A) Sayfadaki satır yüksekliğini ayarlar

- B) Sayfadaki sütun genişliğini ayarlar
C) Sayfanın kenar boşlukları, üst-alt bilgi, yazdırma seçeneklerini ayarlar
D) Çalışma kitabındaki sayfa sayısını ayarlar

101. Excel programı hangi yazılım kategorisine girer?





- A) Kelime işlemci
B) Tablo / Grafik
C) Ticari program
D) Eğitim programı

102. Bir Excel Çalışma Sayfası kaç sütun ve satırdan oluşmaktadır?

(Office 2003/Office 2007-2010)

- A) 255 sütun – 65536 / 255 sütun – 1048576 satır
B) 256 sütun – 65535 / 256 sütun – 1048575 satır
C) 256 sütun – 65536 / 256 sütun – 1048576 satır
D) 255 sütun – 65535 / 255 sütun – 1048575 satır

103. Aşağıdaki komutlardan hangisi Dosya menüsünde bulunmaz?

- A) 
B) 
C) 
D) 

104. Aşağıdaki komutlardan hangisi Dosya menüsünde yer alır?

- A) Farklı Kaydet
B) Kes
C) Sütun
D) Veri



105. Ekle menüsün yer alan yan taraftaki simge hangi komutu temsil eder?

- A) Hesaplama
- B) İşlev**
- C) Sayfa
- D) Sütun

106. Hücreye girilen sayısal ifade bu alana sığmamışsa bu hücrenin ekrandaki görüntüsü aşağıdaki maddelerden hangisinde doğru olarak verilmiştir?

- A) Sayıların bir kısmı görünmez
- B) ##### ifadesi görünür**
- C) O hücreye sayısal ifade silinir
- D) boş görünür

107. Excel çalışma sayfasında Ctrl+End hangi işlemi gerçekleştirir?
(Office 2003/Office 2007-2010)

- A) Tanımlı en son satır ve sütuna gider**
- B) A1 Hücresine gider
- C) IV65536/IV1048576 adresine gider
- D) Satır sonuna kadar seçim yapar


	A	B
1	ankara	1
2	çankaya	2
3	ilçe	3
4	milli	4
5	eğitim	5

108. Yandaki şekilde seçili durumdaki hücre adreslerini aşağıdaki maddelerden hangisinde doğru olarak verilmiştir.

- A) A:B Sütunu
- B) A1-B5 aralığı**
- C) A1-A5 aralığı
- D) A1-5B aralığı

109. Excel programında bulunduğumuz B sütununun en son hücresine gitmek için hangi tuş dizilimini kullanmamız gerekir?





- A) CTRL + END
- B) CTRL + HOME
- C) END + YÖN TUŞU**
- D) ALT + CTRL



110. Yan tarafta çankaya ismi ile yer alan dosya hangi programda oluşturulmuştur?

- A) Winword
- B) Excel
- C) Metin Belgesi
- D) Windows

111. Hücreleri Birleştir ve Ortala komutunun kısa yol simgesi aşağıdaki seçeneklerden hangisinde doğru olarak verilmiştir?

- A) 
- B) 
- C) 
- D) 



112. Yandaki şekilde görülen çankaya kelimesi A10 hücresine kaç derece eğimle yazılmıştır?

- A) +90
- B) -90
- C) -45
- D) +45

113. Yandaki simgenin Excel Programındaki görevi nedir?

- A) Ondalık Arttır – Ondalık Azalt

- B) Ondalık Azalt – Ondalık Arttır
C) Binlik Ayırıcı – Yüzde oranı
D) Yüzde Oranı – Binlik Ayırıcı

114. B2 hücresindeki 25 sayısı ile C2 hücresindeki 15 sayılarının ortalamasını bulan formül aşağıdaki maddelerden hangisinde doğru olarak verilmiştir?

- A) $(B2*C2)/100$
B) $=B2/C2\%100$
C) $=(B2+C2)/2$
D) $(B2+C2)/2$

115. Hücrelerde yazılı olan rakamlardan en küçük sayıyı bulan komut aşağıdakilerden hangisinde doğru olarak verilmiştir?

- A) Min
B) En
C) Max
D) Mak

116. A5 hücresindeki 250 rakamının %25'ini bulan formül aşağıdaki seçeneklerden hangisinde doğru olarak verilmiştir?

- A) $=(A5*25)-100$
B) $=(A5/25)*100$
C) $=A5*25/100$
D) $=(A5+25)/100$

117. B2 hücresinde 100, B4 hücresinde 200, B6 hücresinde 300 rakamlarının ortalamasını bulan formül aşağıdaki maddelerden hangisinde doğru olarak verilmiştir?

- A) $b2+B4+B6 /3$
B) $=(B2+B4+B6)/3$
C) $=(B2:B6)/3$
D) $=B2+B4+B6*3$

118. Yandaki tabloda 2007 yılındaki kârı veren D3 hücresindeki formül aşağıdakilerden hangisidir?

- A) $CIKAR=B3-C3$
B) $=B3-C3$
C) $B3-C3$

	A	B	C	D
1	YIL	GELİR	GİDER	KÂR
2	2006	200	300	
3	2007	400	100	
4	2008	700	500	
5	2009	250	150	
6	TOPL.			

D) =CIKAR(B3-C3)

119. =Uzunluk("Çankaya İlçe Milli Eğitim") fonksiyonun sonucu hangisidir?

A) Formül Hata Verir

B) 4

C) 22

D) 25

120. =TAMSAYI(13,76) fonksiyonu sonucunda hangi değer üretilir?

A) 13

B) 13,8

C) 14

D) 14,00

İŞLETMENLİK SINAVI YANIT ANAHTARI					
1	B	41	C	81	B
2	D	42	C	82	C
3	D	43	B	83	D
4	C	44	D	84	A
5	C	45	C	85	C
6	A	46	C	86	C
7	B	47	A	87	D
8	B	48	C	88	C
9	A	49	B	89	C
10	B	50	B	90	A
11	B	51	A	91	C
12	B	52	B	92	C
13	A	53	D	93	B
14	D	54	D	94	A
15	C	55	C	95	A
16	A	56	B	96	A

17	C	57	C	97	B
18	D	58	C	98	A
19	B	59	D	99	D
20	D	60	C	100	C
21	C	61	B	101	B
22	B	62	A	102	C
23	A	63	B	103	C
24	D	64	A	104	A
25	A	65	A	105	B
26	A	66	D	106	B
27	A	67	D	107	A
28	C	68	C	108	B
29	A	69	A	109	C
30	B	70	C	110	B
31	C	71	D	111	C
32	B	72	B	112	D
33	A	73	D	113	A
34	D	74	B	114	C
35	B	75	A	115	A
36	C	76	B	116	C
37	D	77	B	117	B
38	C	78	C	118	B
39	A	79	A	119	D
40	C	80	B	120	A